

Naam: _____

Datum: _____

Hier oefen ik op:

- leenwoorden uit het Frans schrijven;
- leenwoorden uit het Engels schrijven.

1

Een mondje Frans en Engels

- Schrijf bij elk woord een passend leenwoord uit het Frans of het Engels.

verdieping	<u>etage</u>	einduitslag	<u>score</u>
wegbeschrijving	<u>route</u>	voetpad	<u>trottoir</u>
toegangsbewijs	<u>ticket</u>	doelpunt	<u>goal</u>
uurwerk	<u>horloge</u>	ploeg	<u>team</u>
geschenk	<u>cadeau</u>	vragenlijst	<u>enquête</u>
stortbad	<u>douche</u>	kinderoppas	<u>babysit</u>
bestuurder	<u>chauffeur</u>	strafschop	<u>penalty</u>
vraaggesprek	<u>interview</u>	wedstrijd	<u>match</u>
wielrenner	<u>coureur</u>	nagerecht	<u>dessert</u>

2

Door de mixer

- De letters staan door elkaar.
- Schrijf de leenwoorden uit het Frans of het Engels goed op.
- Begin met de letter in vetjes.

y-o-a-n-i- m -a-s-e	k-a-i- m -b-i-t-e-n-o-u-n	t-o-f-e-l-i-l- p -e-r-u-e
<u>mayonaise</u>	<u>mountainbike</u>	<u>portefeuille</u>
b-a- b -e-r-u-c-e	n-u-r- s -o-i-v-e	p-o-t-e-r- c -u-m
<u>barbecue</u>	<u>souvenir</u>	<u>computer</u>

3

Goed ingeburgerd

■ Schrijf bij elke foto een leenwoord uit het Frans of het Engels.




cadeau



barbecue



portefeuille



bagage



ticket



cocktail

■ Schrijf twee zinnen.

■ Gebruik in elke zin twee van bovenstaande leenwoorden.

1 eigen antwoord

2

Dit vindt de juf/de meester van mijn taak: _____





Naam: _____

Datum: _____

Klas: _____

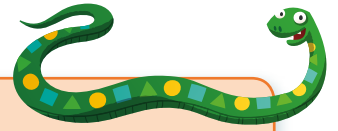
Klasnummer: _____

Tip!

Percentages - korting

Bijvoorbeeld: Solden! Jeans: € 50, nu 20 % korting!
 Bereken hoeveel euro korting je nu krijgt bij aankoop van deze jeans.
 $20\% \text{ van } 50 = 20 \times (50 : 100) = 20 \times 0,50 = 10$ of $20\% \text{ van } 50 = 50 : 5 = 10$

Antwoord: De korting is 10 euro.



1 Reken uit.

$10\% \text{ van } 800 = 10 \times (800 : 100) = 80$ of $800 : 10 = 80$

$30\% \text{ van } 800 = 30 \times (800 : 100) = 240$ of $800 : 10 \times 3 = 80 \times 3 = 240$

$8\% \text{ van } 4\ 000 = 8 \times (4\ 000 : 100) = 8 \times 40 = 320$

$50\% \text{ van } 80 = \frac{1}{2} \text{ van } 80 = 80 : 2 = 40$ of $50 \times (80 : 100) = 50 \times 0,8 = 40$

2 Zet eerst de percentages om naar een breuk.

Reken daarna uit.

$25\% \text{ van } 84 = \frac{1}{4} \text{ van } 84 = 21$

$75\% \text{ van } 2,4 = \frac{3}{4} \text{ van } 2,4 = 3 \times (2,4 : 4) = 3 \times 0,6 = 1,8$

$30\% \text{ van } 420 = \frac{3}{10} \text{ van } 420 = 3 \times (420 : 10) = 3 \times 42 = 126$

$200\% \text{ van } 6,8 = \frac{2}{1} \text{ van } 6,8 = 2 \times 6,8 = 13,6$

3 Kato koopt tijdens de soldenperiode dit mooie

T-shirt:

Hoeveel euro korting krijgt Kato?

$40\% \text{ van } 35 = 40 \times (35 : 100) = 40 \times 0,35 = 14$ of

$\frac{2}{5} \text{ van } 35 = 2 \times (35 : 5) = 14 \rightarrow \text{€ } 14$

Antwoord: Kato krijgt 14 euro korting.




- 4** Jonas vergelijkt zijn resultaten voor wiskunde.
 Op zijn kerstrapport behaalde hij 68 op 80.
 Op zijn lenterapport staat als resultaat 49 op 60.
- Noteer zijn resultaten als percentage.
 - Je mag de ZRM gebruiken.
 - Wanneer behaalde hij het beste resultaat?

	:4	5x	
score kerstrapport	68	17	85
totaal	80	20	100

	:6	10x	
score lenterapport	49	8,17	81,7
totaal	60	10	100

Antwoord: Hij behaalde het beste resultaat op zijn kerstrapport.

- 5** Het aquarium van Salik is 50 cm breed, 20 cm diep en 30 cm hoog.
- Hoeveel liter water kan in het aquarium, als hij het tot aan de rand vult?
 - Hoeveel weegt het aquarium, als het voor $\frac{3}{4}$ met water is gevuld?



volume balk = $l \times b \times h = 50 \times 20 \times 30 = 30\ 000$
$30\ 000\ \text{cm}^3 = 30\ \text{dm}^3 = 30\ \text{l}$
$\frac{3}{4}$ van 30 = 22,5
1 liter water weegt 1 kg.
22,5 liter water weegt 22,5 kg.

Antwoord: In het aquarium kan 30 liter water. Als het aquarium voor $\frac{3}{4}$ is gevuld, weegt het 22,5 kg.

Ik vond de taak _____		<input type="checkbox"/> Ik maakte de taak alleen.
		<input type="checkbox"/> Ik kreeg hulp.
Opmerking ouders: _____		

Europa

Kan jij de landen bij de cijfers benoemen?

1 = Verenigd Koninkrijk

6 = Duitsland

2 = Noorwegen

7 = Oostenrijk

3 = Portugal

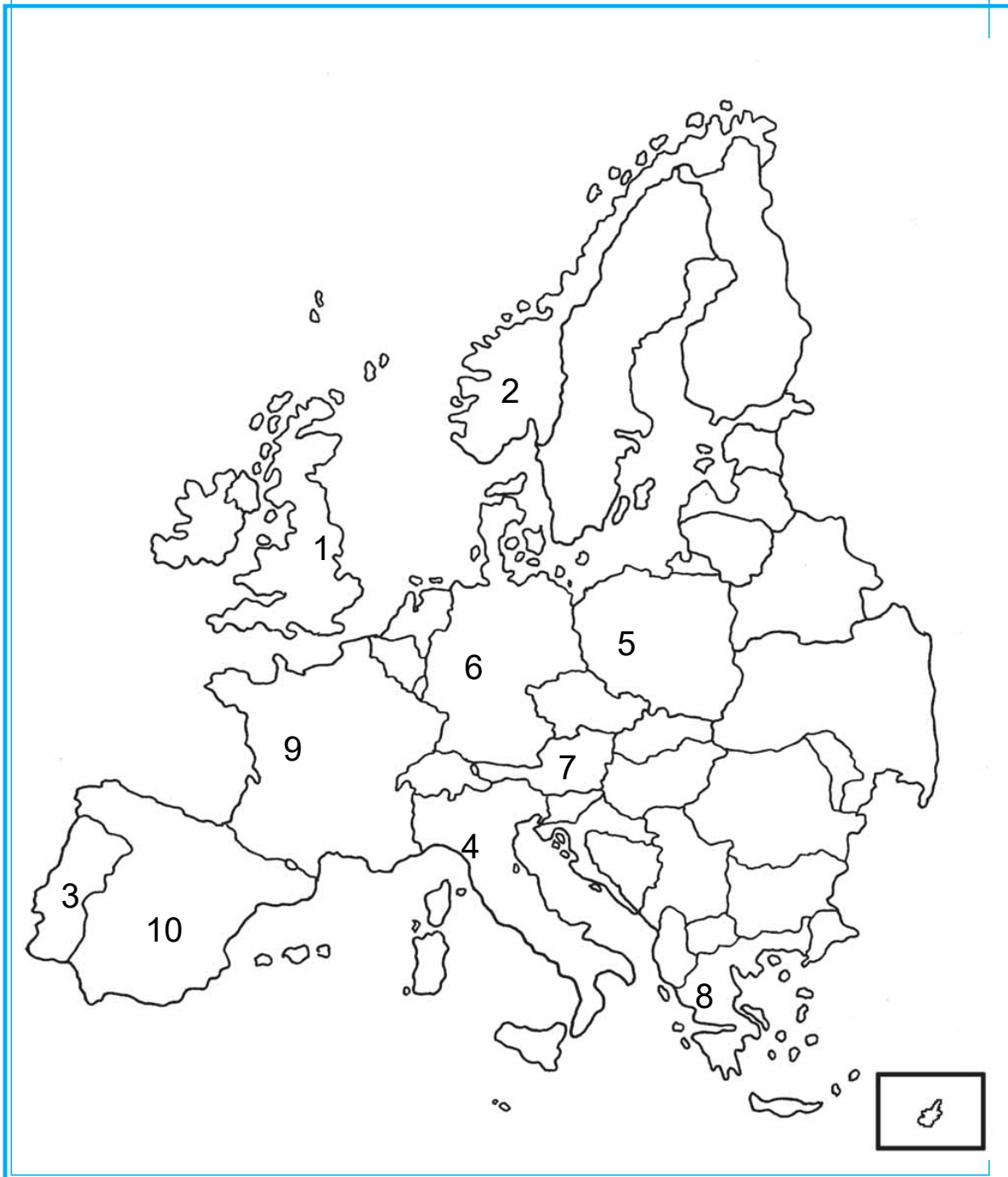
8 = Griekenland

4 = Italië

9 = Frankrijk

5 = Polen

10 = Spanje





Jeux!

1 Mot mystère ...

2 Waarover doet de papa van Arnaud en Camille zo geheimzinnig?

Als je deze oefening oplost, krijg je een tip.

Zoek de onderstaande woorden in het raster. Ze komen horizontaal, verticaal en diagonaal voor. Ten slotte heb je nog zes letters over, waarmee je een woord kunt vormen. Dat vul je onder het raster in.

Veel succes met je zoektocht!

~~idée~~

~~carte~~

~~semaines~~

~~vélo~~

~~surprise~~

~~bagages~~

~~Namur~~

~~été~~

~~Wallonie~~

~~année~~

~~Flandre~~

~~malade~~



Mot mystère

R	A	L	L	Y	E
---	---	---	---	---	---