

T5 Rem 22: woorden waarbij letters anders worden uitgesproken dan geschreven

Woorden om te onthouden

woorden met ai

cocktail rail
container trainen
mailen trainer
militair training

woorden met é

café logé
canapé paté
comité privé
défilé

woorden met er

diner souper

woorden met ch

champagne choco
chauffeur chocolade
chef douche
China ketchup
Chinees lunch
chips match

woorden met j

jeans
jongleren
journaal
jury

woorden met g

bagage
garage
giraf
horloge
logeren
manege

woorden met x

examen excuses exemplaar expeditie experiment
expert explosie extra luxe Luxemburg
maximum Mexico mixer taxi textiel

1 Mooi gezegd

- Schrijf bij elke omschrijving het goede woord.
- De woorden uit het kader kunnen helpen.

- 1 Via internet een brief versturen
- 2 iets wat van jou alleen is, wat niemand hoeft te weten
- 3 Plaats in een woning waarin je een auto kunt plaatsen
- 4 Persoon die heel veel weet over een onderwerp
- 5 Ander woord voor een ontdekkingsreis
- 6 Kleinste buurland van België
- 7 Frans woord voor avondmaal
- 8 Engels woord voor wedstrijd
- 9 Als je bij iemand anders gaat overnachten, ga je
- 10 Frans woord voor stortbad
- 11 Verontschuldiging
- 12 Balletjes in de lucht gooien en ze weer opvangen

mailen _____

privé _____

garage _____

expert _____

expeditie _____

Luxemburg _____

diner _____

match _____

logeren _____

douche _____

excuses _____

jongleren _____

2

Mooi gefotografeerd

- Schrijf bij elke prent het goede woord.
- De woorden uit het kader kunnen helpen.



bagage



horloge



jeans




chips



giraf



champagne



ketchup



mixer



cocktail

- Kies twee woorden uit.
- Schrijf met elk van die woorden een goede zin.

1 eigen antwoord

2

- Een foutje mag. Schrijf het hier eenmaal goed.
Vertel me hoe je het doet!

Hoe deed ik de taak?



Ik denk



Juf/Meester vindt

1 Naast het huis van de familie Dujardin werd een prachtige border aangelegd.

roze primula	purperen rododendron	rode dahlia	rode tulp
gele forsythia	purperen aster	rode roos	rode geranium

Ter informatie:

Voorjaarsbloemen: rododendron, primula, tulp, forsythia

Herfstbloemen: aster


Zomerbloemen: roos, geranium, dahlia

Welk deel van de tuin bestaat uit voorjaarsbloemen? **4/8 of 1/2**

Welk deel van de tuin bestaat uit gele voorjaarsbloemen? **1/8**



2 Los op en vul de breuken correct aan.



Het terras neemt **1/3** van de tuin in.

De vijver neemt **1/12** van de tuin in



3 Los op. Voer uit op de getekende figuur.

$$\frac{1}{4} : 3 = \frac{1}{12}$$

$$\frac{1}{3} : 4 = \frac{1}{12}$$

$$\frac{3}{5} : 2 = \frac{3}{10}$$

$$\frac{1}{8} : 2 = \frac{1}{16}$$

$$\frac{3}{4} : 4 = \frac{3}{16}$$

$$\frac{2}{5} : 3 = \frac{2}{15}$$

4**Los op.**

$\frac{4}{5} : 2 = \frac{2}{5}$	$\frac{7}{9} : 7 = \frac{1}{9}$	$\frac{6}{8} : 3 = \frac{2}{8} = \frac{1}{4}$
$\frac{2}{3} : 2 = \frac{1}{3}$	$\frac{10}{12} : 5 = \frac{2}{12} = \frac{1}{6}$	$\frac{9}{15} : 3 = \frac{3}{15} = \frac{1}{5}$
$\frac{1}{4} : 4 = \frac{1}{16}$	$\frac{7}{8} : 2 = \frac{7}{16}$	$\frac{3}{4} : 2 = \frac{3}{8}$
$\frac{2}{3} : 3 = \frac{2}{9}$	$\frac{5}{8} : 3 = \frac{5}{24}$	$\frac{2}{3} : 4 = \frac{2}{12} = \frac{1}{6}$

1

Dit is de border die aangelegd werd naast het huis van de familie Dujardin. Geef de verhouding aan in breukvorm.

rode stamrozen
witte camelia's
roze rozen
rode geraniums
witte begonia's
roze tulpen
roze tulpen

Welk deel van de border bestaat uit:

rode bloemen? $\frac{2}{7}$

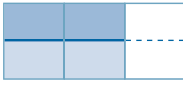
roze bloemen? $\frac{3}{7}$

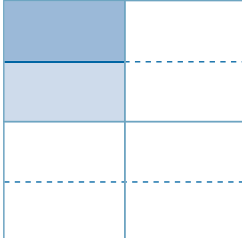
witte bloemen? $\frac{2}{7}$

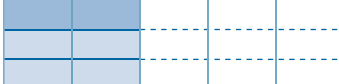
De witte camelia's vormen $\frac{1}{7}$ van de border.


2

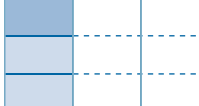
Los op. Voer uit op de getekende figuur.


$$\frac{2}{3} : 2 = \frac{1}{3}$$


$$\frac{1}{4} : 2 = \frac{1}{8}$$


$$\frac{2}{5} : 3 = \frac{2}{15}$$


$$\frac{3}{4} : 3 = \frac{1}{4}$$


$$\frac{1}{3} : 3 = \frac{1}{9}$$


$$\frac{3}{4} : 2 = \frac{3}{8}$$




Wat een legende!



Dit kun je al

Je kunt op luchtfoto's van landschappen aangeven of het een landelijke, stedelijke, toeristische/recreatieve of industriële omgeving is. Je weet in welke omgeving jijzelf woont.



Dit kun je straks

Je kunt op een kaart, via de legende, het landschap herkennen.

1 Een kaart van de gemeente Heist-op-den-berg

Haal uit de legende de 4 kleuren die je nodig hebt om de kenmerken van dit landschap aan te duiden. Kleur de vakjes.

	Legende <ul style="list-style-type: none"> woongebied gebied voor gemeenschapsvoorzieningen en openbaar nut recreatiegebied park- en natuurgebied bosgebied agrarisch gebied milieubelastende industrieën
--	--

Legende

stedelijke omgeving

landelijke omgeving

industriële omgeving

toeristische/recreatieve omgeving

– Welke omgeving is het vooral? landelijke omgeving



2 De foto's tonen verschillende omgevingen.
Welke kleuren hebben deze omgevingen op een kaart? Kleur de vakjes.



rood



paars



groen



geel



3 Wat weet je over het landschap op de kaart? Kijk naar de legende op de eerste bladzijde



oranje = stedelijke omgeving

groen = landelijke omgeving met enkele wegen