

Naam: _____

Datum: _____

Hier oefen ik op:

- het schrijven van weetwoorden waarbij s geschreven wordt als t of c;
- het toepassen van de strategie voor verdubbelen van de medeklinker en verenkelen van de klinker;
- het schrijven van woorden op -eaal, -iaal, -ieel en -ueel.

1

Groen van jaloezie

- Vervang het vraagteken door sie, tie of zie.
- Schrijf de woorden goed op.

jaloe? jaloezie _____

por? portie _____

illu? illusie _____

spina? spinazie _____

fanta? fantasie _____

illustra? illustratie _____

televi? televisie _____

explo? explosie _____

democra? democratie _____

intelligen? intelligentie _____

2

Mooi omschreven

- Schrijf bij elke omschrijving het goede woord.
- Je zoekt woorden waarbij s geschreven wordt als c of t.

plaats waar treinen toekomen en vertrekken

station _____

zure vrucht met gele schil

citroen _____

soort van reclame in een tijdschrift of krant

advertentie _____

hoeveelheid eten voor een persoon

portie _____

dit krijg je van de dokter om weer beter te worden

medicijnen _____

deel van een land met eigen hoofdstad en eigen bestuur

provincie _____

3**Koppels**

■ Gebruik elk van de woorden in een goede zin.

potten eigen antwoord _____

poten _____

bomen _____

bommen _____

beken _____

takken _____

4**Ideaal scenario**

■ Maak van de woorden een woord op -ieel, -ueel, -iaal of -eaal.
 ■ Schrijf de woorden op.

materie	<u>materiaal/materieel</u> _____	passie	<u>passioneel</u> _____
individu	<u>individueel</u> _____	financiën	<u>financieel</u> _____
idee	<u>ideaal</u> _____	genie	<u>geniaal</u> _____
principe	<u>principieel</u> _____	industrie	<u>industrieel</u> _____
actualiteit	<u>actueel</u> _____	provincie	<u>provinciaal</u> _____

Dit vindt de juf/de meester van mijn taak: _____



Even oprissen

Naam: _____

Klas: _____ Datum: _____

1 Oorzaak-gevolg: wat is dat?

- Lees de zinnen.
- Welke verklaringen horen samen? Verbind ze.

meerdere antwoorden mogelijk

OORZAAK

Door de aanhoudende regen ...
Doordat die twee vrachtwagens botsten, ...
Als de kok zijn vuur te heet zet, ...
Als de chauffeur te snel rijdt, ...
Door het warme weer ...
Als ik te laat opsta, ...
Als de elektriciteit uitvalt, ...

GEVOLG

krijgt hij een snelheidsboete.
zal zijn pot overkoken.
is er geen licht meer.
was er vertraging op de ring rond Brussel.
kom ik te laat op school.
stonden alle akkers onder water.
gaan veel mensen naar het strand.

2 Nu jij!

- Bedenk een oorzaak en een gevolg bij deze afbeelding. meerdere antwoorden mogelijk



oorzaak:

Bv. Het meisje klom in een boom en viel eruit.

gevolg:

Bv. Het meisje brak haar arm en haar been.

Hoe deed ik de taak?



Ik denk



Juf/Meester vindt

Lange woorden

- Voeg de woorden samen.
- Schrijf het lange woord op.

cirkel	blikje	<u>colablikje</u>
citroen	tent	<u>circustent</u>
cola	zaag	<u>cirkelzaag</u>
circus	fiets	<u>racefiets</u>
race	sap	<u>citroensap</u>
eind	score	<u>eindscore</u>

- Vul in elke zin het goede woord in.
- Kies een woord uit het kader.

quiz – quotiënt – broccoli – accordeon – quiche – accu – aquarium

Broccoli is een groente die veel vitamine C bevat.

Een ander woord voor een soort groentetaart is quiche.

In de wiskunde noemt men het resultaat van een deling het quotiënt.

Een accu is een soort batterij.

Een accordeon is een muziekinstrument.

Onze vissen zwemmen rustig heen en weer in hun nieuwe aquarium.

Onze school organiseert jaarlijks een leuke quiz.

1 Welke driehoeken kunnen achter deze vlek verborgen zijn?

- Benoem volgens de hoeken en de zijden.
- Noteer alle mogelijke oplossingen.

rechthoekige ongelijkbenige driehoek _____

rechthoekige gelijkbenige driehoek _____

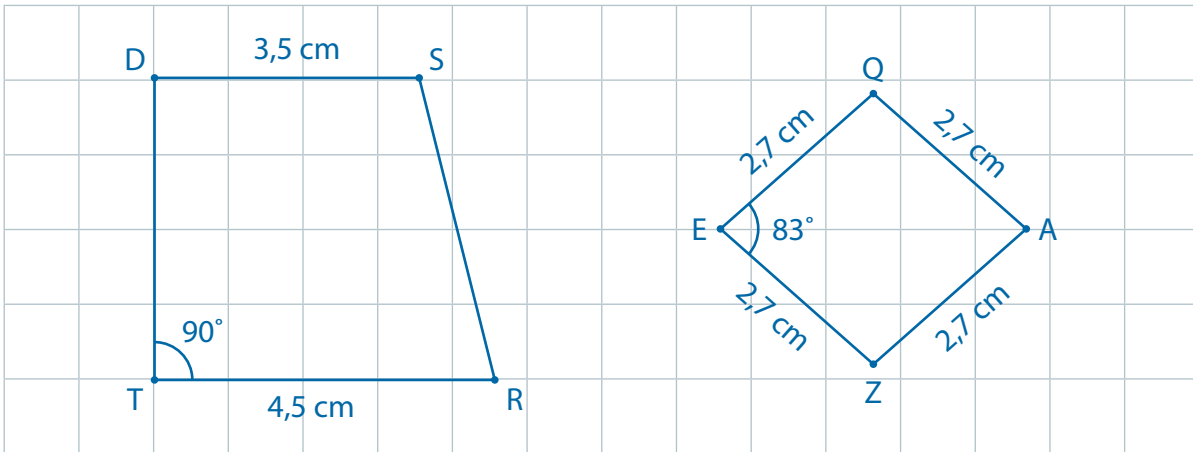


2 Teken het trapezium DSRT.

Je weet dat [TR] 4,5 cm meet en [SD] 3,5 cm. [SR] is niet evenwijdig aan [DT]. De hoek T is 90°.

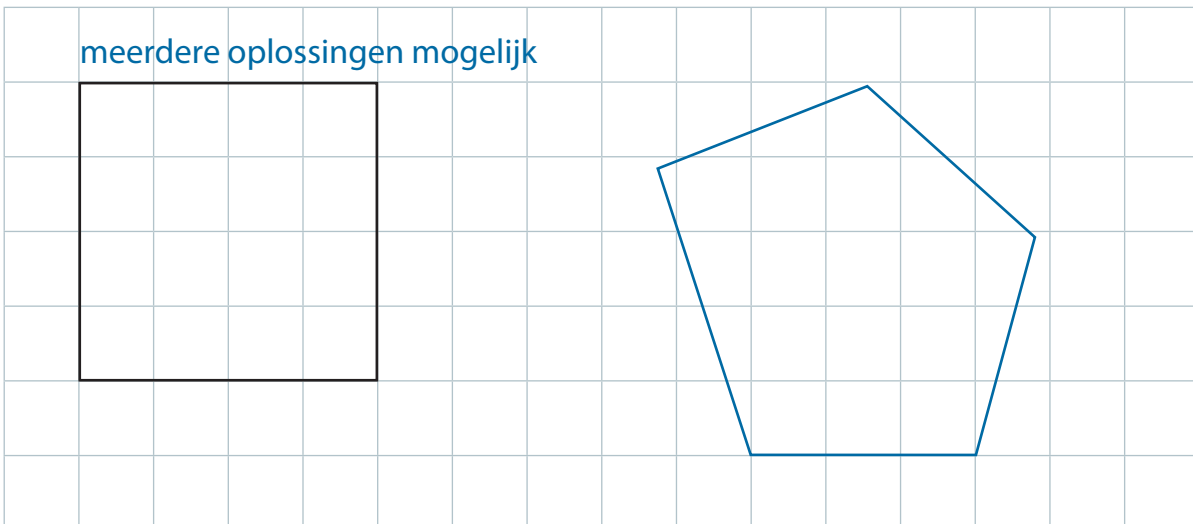
Teken de ruit QAZE.

Je weet dat [AZ] 2,7 cm meet. De hoek E is 83°.



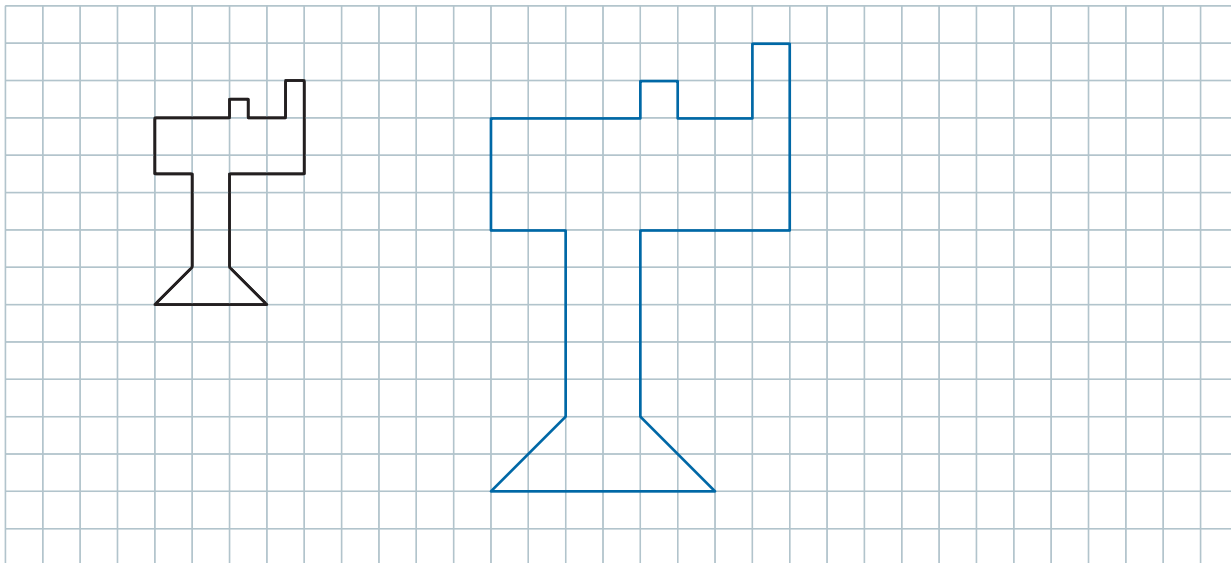
3 Teken een willekeurige vijfhoek met dezelfde omtrek als dit vierkant.

meerdere oplossingen mogelijk



4

- Teken een gelijkvormige figuur waarvan de afmetingen zich verhouden zoals 2 tot 1.
- Vul de zin aan.

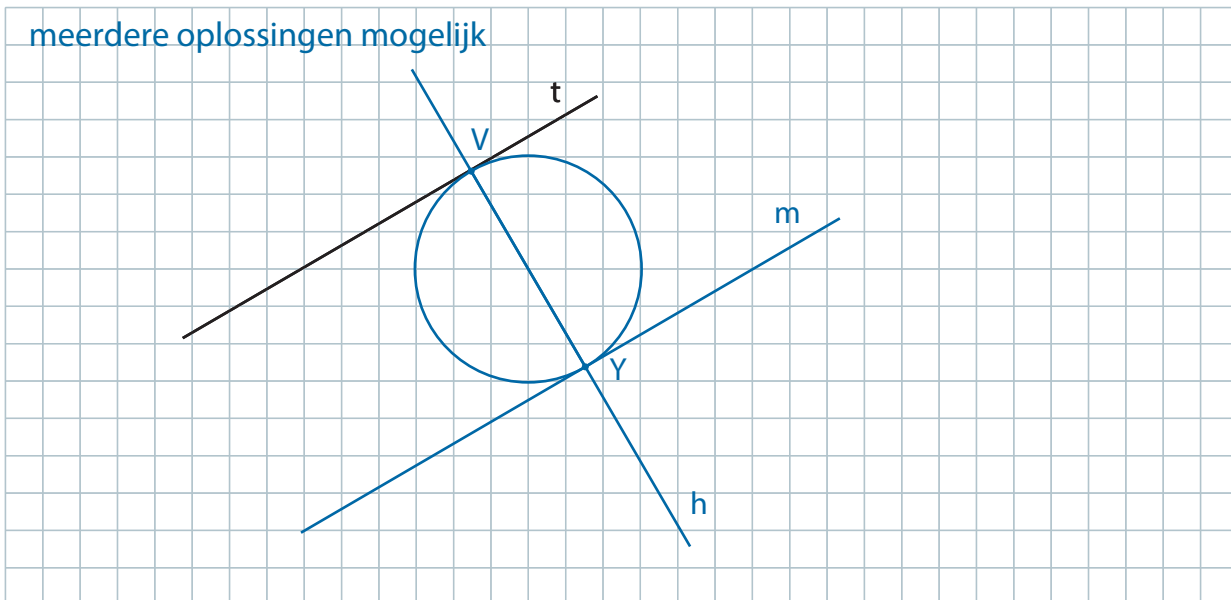


De oppervlakte van de gegeven figuur is 4 _____ keer kleiner/groter dan de oppervlakte van de getekende figuur.

5

- Kies een punt Y buiten de rechte t.
- Teken door Y een evenwijdige rechte m aan t.
- Teken door Y een loodrechte h op m.
- Benoem het snijpunt van t met h, V.
- Teken tussen de rechten m en t een cirkel met [VY] als diameter.

meerdere oplossingen mogelijk



1 OORLOG IS ZINLOOS

■ Wat zijn de gevolgen van oorlogen? Noteer.

mensen op de vlucht

veel doden en gewonden

Huizen en steden worden vernield.

hongersnood (of andere antwoorden)

2 TERUG IN DE TIJD

■ Verbind wat bij elkaar hoort.



kanon

trébuchet / slingerkatapult

tank

pistool met poederzakje

stormram

zeppelin

