

Naam: \_\_\_\_\_

Datum: \_\_\_\_\_

**Hier oefen ik op:**

- persoonsvormen in de verleden tijd schrijven.



**Zo geregeld**

- Vul de tabel aan.



infinitief	verleden tijd enkelvoud	verleden tijd meervoud
dromen	ik <u>droomde</u>	we <u>droomden</u>
zwemmen	ik <u>zwom</u>	we <u>zwommen</u>
verkopen	ik <u>verkocht</u>	we <u>verkochten</u>
rusten	ik <u>rustte</u>	we <u>rustten</u>
vinden	ik <u>vond</u>	we <u>vonden</u>
redden	ik <u>redde</u>	we <u>redden</u>
praten	ik <u>praatte</u>	we <u>praatten</u>
eten	ik <u>at</u>	we <u>aten</u>
rijden	ik <u>reed</u>	we <u>reden</u>
feesten	ik <u>feestte</u>	we <u>feestten</u>

## 2

## Een sterke stam

- Vul de verleden tijd van het werkwoord in de zin in.

## infinitief

zoeken	Ik <b>zocht</b> _____ naar het juiste antwoord.
verbieden	De redder <b>verbod</b> _____ om te lopen rond het zwembad.
werken	We <b>werkten</b> _____ de hele ochtend aan een kunstwerk.
drinken	Mama <b>dronk</b> _____ haar kopje thee leeg.
verzetten	De winkelier <b>verzette</b> _____ de vaas op de toonbank.
ontmoeten	We <b>ontmoetten</b> _____ een bekende kok.
rijden	De chauffeur <b>reed</b> _____ te snel.
kijken	Veel mensen <b>keken</b> _____ naar het vuurwerk.
verdienen	Mijn broer <b>verdiende</b> _____ die beloning niet.
slapen	Mijn grote zus <b>sliep</b> _____ tot de middag.

## 3

## Het hoofd erbij houden

- De woorden staan door elkaar.
- Schrijf de zin goed op.
- Begin met het woord met de hoofdletter.
- Schrijf het vetgedrukte woord in de juiste vorm in de verleden tijd.

1 hoge – **passeren** – De – snelheid – met – trein .

**De trein passeerde met hoge snelheid.**

2 doos – zijn – De – de – **tasten** – in – jongen – met – hand .

**De jongen tastte met zijn hand in de doos.**

3 vakantie – terug – Samira – mooie – aan – **denken** – de .

**Samira dacht terug aan de mooie vakantie.**

Dit vindt de juf/de meester van mijn taak: \_\_\_\_\_

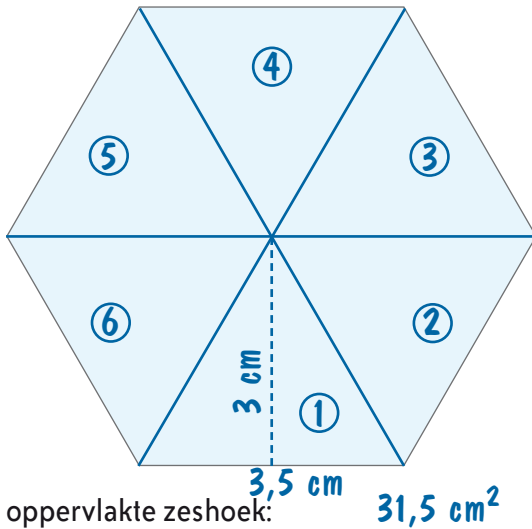
\_\_\_\_\_

\_\_\_\_\_

\_\_\_\_\_



- 1** Verdeel deze zeshoek. Nummer elke deelfiguur.  
Bepaal daarna de oppervlakte van de zeshoek.



oppervlakte van

figuur 1:  $(3,5 \times 3 \text{ cm}^2) : 2 = 5,25 \text{ cm}^2$

figuur 2: \_\_\_\_\_

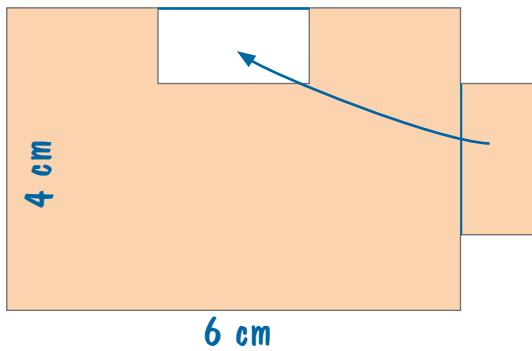
figuur 3: \_\_\_\_\_

Er zijn zes even grote driehoeken.

Totale oppervlakte:

$6 \times 5,25 \text{ cm}^2 = 31,5 \text{ cm}^2$

- 2** Maak van deze figuur een vierhoek. Bereken de oppervlakte.



oppervlakte vierhoek:  $6 \times 4 \text{ cm}^2 = 24 \text{ cm}^2$

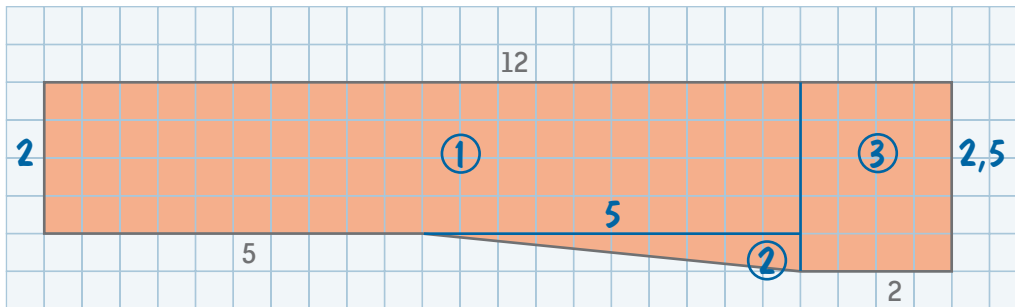
oppervlakte oorspronkelijke veelhoek:  $24 \text{ cm}^2$

**3**

Bereken de oppervlakte van deze veelhoek.

De afmetingen zijn aangegeven in meter.

Verdeel en/of compenseer, zodat je zo weinig mogelijk moet rekenen.



oppervlakte: \_\_\_\_\_

$$\text{Opp. } \textcircled{1} : 10 \times 2 \text{ m}^2 = 20 \text{ m}^2$$

$$\text{Opp. } \textcircled{2} : (5 \times 0,5 \text{ m}^2) : 2 = 1,25 \text{ m}^2$$

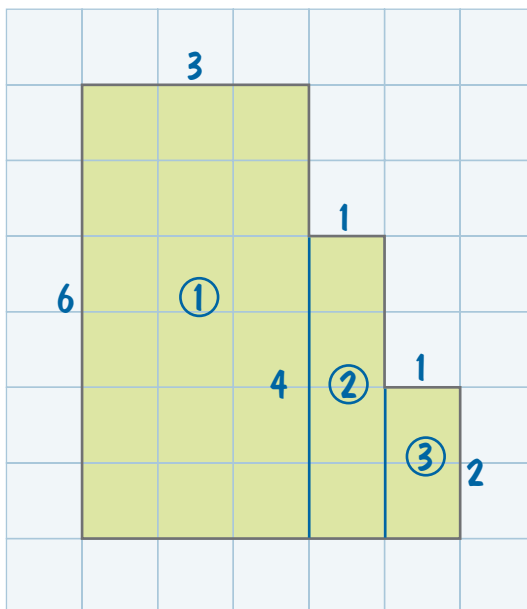
$$\text{Opp. } \textcircled{3} : 2 \times 2,5 \text{ m}^2 = 5 \text{ m}^2$$

$$\text{Opp. veelhoek: } 20 \text{ m}^2 + 1,25 \text{ m}^2 + 5 \text{ m}^2 = 26,25 \text{ m}^2$$

**1**

Verdeel de figuur.

Bereken daarna de oppervlakte van de ganse figuur.



oppervlakte van

$$\text{deel 1: } 6 \times 3 \text{ cm}^2 = 18 \text{ cm}^2$$

$$\text{deel 2: } 1 \times 4 \text{ cm}^2 = 4 \text{ cm}^2$$

$$\text{deel 3: } 1 \times 2 \text{ cm}^2 = 2 \text{ cm}^2$$

totale oppervlakte:

$$18 \text{ cm}^2 + 4 \text{ cm}^2 + 2 \text{ cm}^2 = 24 \text{ cm}^2$$



## Uitspraken

1 De kerstster mag je alleen maar lauw water geven. **JUIST** - FOUT

2 De clivia moet je in december meer water geven. JUIST **FOUT**

**De clivia moet je van oktober tot januari geen water geven.**

3 De sansevieria moet je elke week drie keer water geven. JUIST **FOUT**

**De sanseveria moet je één keer om de drie weken water geven.**

4 De ideale temperatuur voor een potanjer is rond de 20°C. **JUIST** - FOUT

5 De azalea heeft zeer veel kalk nodig om goed te kunnen groeien. JUIST **FOUT**

**De azalea houdt van zure grond, geen kalk toevoegen.**

6 De ficus moet je op schaduwrijke plekken zetten in je huis. JUIST **FOUT**

**De ficus verdraagt zeer goed licht.**

7 Als de temperatuur 12°C is dan groeit de krulvaren het best. JUIST **FOUT**

**Bij 18°C groeit de krulvaren het best.**

8 Niet in volle zon maar op een lichte plek houden. Zo verzorg je de bladbegonia. **JUIST** - FOUT