

Naam: _____

Datum: _____

Hier oefen ik op:

- het schrijven van weetwoorden met au/ou;
- het schrijven van werkwoordsvormen in de tegenwoordige tijd;
- het schrijven van werkwoordsvormen die niet van klank veranderen in de verleden tijd.

1

Zonder fouten

- Schrijf bij elke prent het goede woord met au of ou.



kabouter



vrachtauto



kousen




wenkbrauw



goudvis



touw



pauw



kauwgom



mevrouw

Dit werkt al goed



- Vul in elke zin het passende werkwoord in de tegenwoordige tijd in.
- Kies werkwoorden uit het kader.

buigen – leiden – blazen – klappen – fluiten – zingen

De grappige muzikant **blaast** _____ op zijn trompet.
 De fluitist **fluit** _____ een mooie melodie.
 De beroemde zangeres **zingt** _____ een lied.
Leidt _____ de dirigent het orkest?
 Het publiek **klapt** _____ gedurende vijf minuten in de handen.
 De orkestleden **buigen** _____ voor het publiek.

Ik luister en jij luisterde

- Schrijf de zin in de verleden tijd.
- 1 Het meisje werkt flink voor school.
Het meisje werkte flink voor school.
 - 2 Ze fietst vrolijk door het bos.
Ze fietste vrolijk door het bos.
 - 3 De jongen luistert naar muziek.
De jongen luisterde naar muziek.
 - 4 Opa plukt de kersen van de boom.
Opa plukte de kersen van de boom.
 - 5 Onze juf trouwt met haar grote liefde.
Onze juf trouwde met haar grote liefde.
 - 6 Nadien verhuist ze naar haar nieuwe woning.
Nadien verhuisde ze naar haar nieuwe woning.

Dit vindt de juf/de meester van mijn taak: _____

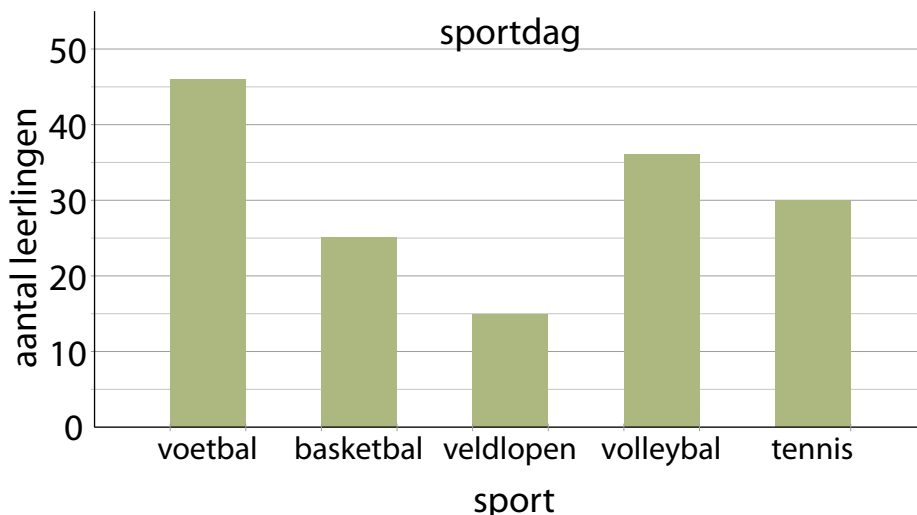




Naam: _____ Datum: _____

Klas: _____ Klasnummer: _____

1 Beantwoord de vragen bij het diagram.



Welke sport kozen de meeste leerlingen? voetbal

Hoeveel leerlingen kozen voor basketbal? 25 leerlingen

Welke sport was het minst populair? veldlopen

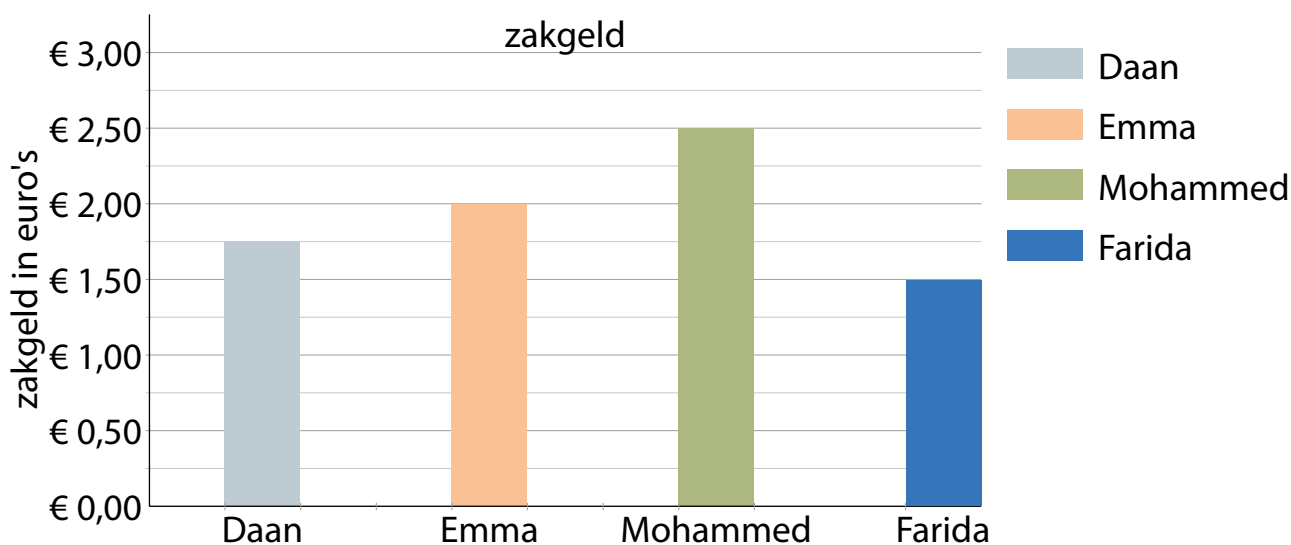
2 Voor een daguitstap naar het bos voorziet de school een lunchpakket voor de leerlingen van 3B. Juf Vera vraagt na wie wat wil eten en drinken. Om te eten is er keuze tussen boterhammen met hummus, met kaas en met ham. Als drankje is er keuze tussen water, fruitsap en melk. 9 leerlingen kiezen boterhammen met kaas, 6 leerlingen kiezen boterhammen met ham en 4 leerlingen gaan voor de boterhammen met hummus. Als drankje kiezen 7 leerlingen water, 10 leerlingen fruitsap en 2 leerlingen melk.

Vul de tabel in.

eten	hummus	kaas	ham
aantal leerlingen	4	9	6
drinken	melk	fruitsap	water
aantal leerlingen	2	10	7

3 Hieronder zie je hoeveel zakgeld Daan, Emma en Mohammed wekelijks krijgen. Farida krijgt 1 euro minder dan Mohammed.

- Teken de ontbrekende staaf in onderstaand staafdiagram.
- Beantwoord de vragen.



Wie krijgt het meeste zakgeld?

Mohammed krijgt het meeste zakgeld.

Hoeveel zakgeld krijgt Emma wekelijks minder dan Mohammed?

Emma krijgt wekelijks 50 cent minder dan Mohammed.

Mohammed spaart zijn zakgeld. Na hoeveel weken heeft hij 10 euro gespaard?

Na vier weken heeft Mohammed 10 euro gespaard.

4 Los op.

$$9 \times 45 = (10 \times 45) - (1 \times 45) = 450 - 45 = \mathbf{405}$$

$$2\,950 + 1\,800 = (2\,950 + 2\,000) - 200 = 4\,950 - 200 = \mathbf{4\,750}$$

$$10 - 7,3 = (10 - 7) - 0,3 = 3 - 0,3 = \mathbf{2,7}$$

$$1\,834 - 589 = (1\,834 - 600) + 11 = 1\,234 + 11 = \mathbf{1\,245}$$

Ik vond de taak



Ik maakte de taak alleen.



Ik kreeg hulp.



Opmerking ouders: _____