



Naam: _____

Datum: _____

Klas: _____

Klasnummer: _____

1 Los cijferend op.

H	T	E
	1	
5	6	6
1	1	6
+		
6	8	2

H	T	E
	.	10
4	4	6
2	1	9
-		
2	2	7

H	T	E
	1	
4	3	1
5	1	9
+		
9	5	0

- 2** Maak een schatting. meerdere schattingen mogelijk
 Reken uit.
 Vergelijk de uitkomst met de schatting.

$43,03 + 917,18 = 960,21$

Ik schat: $40 + 900 = 940$

H	T	E	t	h
	1		1	
	4	3	,	0 3
9	1	7	,	1 8
+				
9	6	0	,	2 1

De som ligt in de buurt van de schatting:

- ja nee

$482,66 - 31,3 = 451,36$

Ik schat: $500 - 30 = 470$

H	T	E	t	h
4	8	2	,	6 6
	3	1	,	3
-				
4	5	1	,	3 6

Het verschil ligt in de buurt van de schatting:

- ja nee

$477,84 - 426,75 = 51,09$

Ik schat: $500 - 400 = 100$

H	T	E	t	h
			.	10
4	7	7	,	8 4
4	2	6	,	7 5
-				
	5	1	,	0 9

Het verschil ligt in de buurt van de schatting:

- ja nee

$208,92 - 44,78 = 164,14$

Ik schat: $200 - 40 = 160$

H	T	E	t	h
·	10		·	10
2	0	8	,	9 2
	4	4	,	7 8
-	1	6	4	, 1 4

Het verschil ligt in de buurt van de schatting:

ja nee

$271,68 + 531,43 = 803,11$

Ik schat: $300 + 500 = 800$

H	T	E	t	h
1		1		1
2	7	1	,	6 8
5	3	1	,	4 3
+	8	0	3	, 1 1

De som ligt in de buurt van de schatting:

ja nee

$73,11 + 62,98 = 136,09$

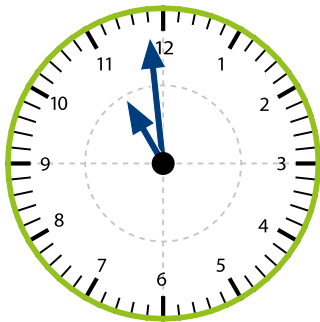
Ik schat: $70 + 60 = 130$

H	T	E	t	h
1		1		
	7	3	,	1 1
	6	2	,	9 8
+	1	3	6	, 0 9

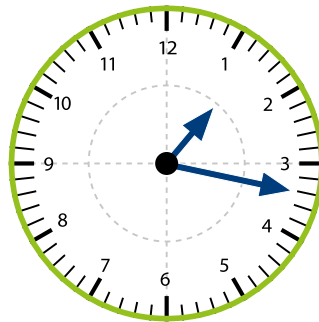
De som ligt in de buurt van de schatting:

ja nee

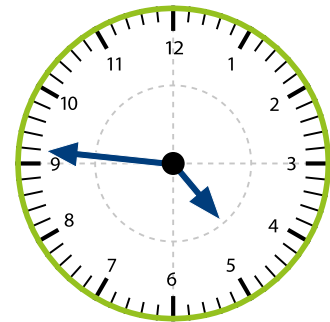
3 Hoe laat is het?



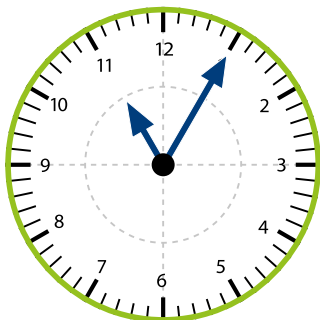
Het is 1 voor 11



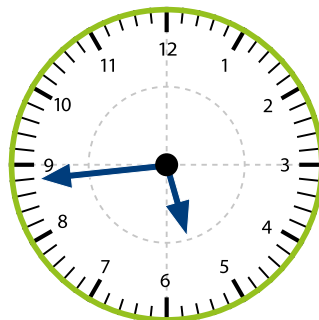
Het is 17 over 1



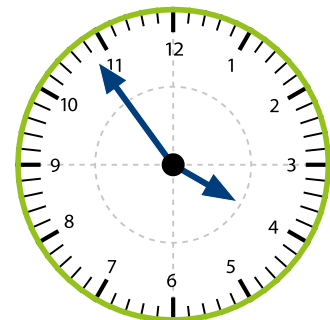
Het is 14 voor 5



Het is 5 over 11



Het is 16 voor 6



Het is 6 voor 4

Ik vond de taak



Ik maakte de taak alleen.



Ik kreeg hulp.



Opmerking ouders: _____