

Naam: _____

Datum: _____

Hier oefen ik op:

- het schrijven van woorden met ch(t) of g(t);
- het schrijven van werkwoordsvormen in de tegenwoordige tijd.

1
15

Ze draagt een vlecht



- Schrijf de woorden goed op.
- Op de plaats van het vraagteken schrijf je ch of g.

vra?tw?en vrachtwagen

vlie?tui? vliegtuig

vraa?teken vraagteken

re?thoek rechthoek

bui?zaam buigzaam

na?tzoen nachtzoen

?limla? glimlach

evenwi?t evenwicht

re?enboo? regenboog

a?ttien achttien

a?tervol?en achtervolgen

op?elu?t opgelucht

2

Een bonte specht


- Schrijf bij elke prent het goede woord.
- Je zoekt woorden met ch of g.



vogel




rugzak




scheidsrechter



gieter



vlecht



specht

- Kies een woord uit.
- Schrijf met dat woord een goede zin.

1 eigen antwoord

Ik antwoord en jij antwoordt ook



- Schrijf bij elke infinitief de bijbehorende stam.
- Vul de juiste vorm van het werkwoord in de tegenwoordige tijd in.

infinitief	stam	
krijgen	<u>krijg</u> _____	De jongen <u>krijgt</u> _____ een beloning.
vragen	<u>vraag</u> _____	Het meisje <u>vraagt</u> _____ om hulp.
branden	<u>brand</u> _____	De kaars <u>brandt</u> _____ de hele avond.
vinden	<u>vind</u> _____	Hij <u>vindt</u> _____ zijn boekentas niet.
slapen	<u>slaap</u> _____	Ik <u>slaap</u> _____ niet graag in een stapelbed.
bereiden	<u>bereid</u> _____	De kok <u>bereidt</u> _____ een lekkere maaltijd.
stoppen	<u>stop</u> _____	Waar <u>stopt</u> _____ de bus?
landen	<u>land</u> _____	Het vliegtuig <u>landt</u> _____ met een kwartier vertraging.
luiden	<u>luid</u> _____	De klokken <u>luiden</u> _____ al de hele avond.
dromen	<u>droom</u> _____	Mama <u>droomt</u> _____ van een nieuwe auto.
zenden	<u>zend</u> _____	Wanneer <u>zend</u> _____ jij mij jouw antwoord?
raden	<u>raad</u> _____	Wij <u>raden</u> _____ de verrassing.

Dit vindt de juf/de meester van mijn taak: _____



1 Lees de opgave. Schat de uitkomst. Los de bewerkingen cijferend op. Gebruik je schatting om de uitkomst te controleren.

	$23 \times 385 = 8855$	$13 \times 407 = 5291$	$52 \times 73 = 3796$																																																																																																												
Ik schat:	$20 \times 400 = 8000$	$10 \times 400 = 4000$	$50 \times 70 = 3500$																																																																																																												
	<table border="1"> <tr><td></td><td></td><td></td><td>3</td><td>8</td><td>5</td></tr> <tr><td></td><td></td><td></td><td>2</td><td>3</td><td></td></tr> <tr><td></td><td></td><td></td><td>1</td><td>1</td><td>5</td></tr> <tr><td></td><td></td><td></td><td>7</td><td>7</td><td>0</td></tr> <tr><td></td><td></td><td></td><td>8</td><td>8</td><td>5</td></tr> </table>				3	8	5				2	3					1	1	5				7	7	0				8	8	5	<table border="1"> <tr><td></td><td></td><td></td><td>4</td><td>0</td><td>7</td></tr> <tr><td></td><td></td><td></td><td>1</td><td>3</td><td></td></tr> <tr><td></td><td></td><td></td><td>1</td><td>2</td><td>2</td></tr> <tr><td></td><td></td><td></td><td>4</td><td>0</td><td>7</td></tr> <tr><td></td><td></td><td></td><td>5</td><td>2</td><td>9</td></tr> </table>				4	0	7				1	3					1	2	2				4	0	7				5	2	9	<table border="1"> <tr><td></td><td></td><td></td><td></td><td>5</td><td>2</td></tr> <tr><td></td><td></td><td></td><td></td><td>7</td><td>3</td></tr> <tr><td></td><td></td><td></td><td></td><td>1</td><td>5</td></tr> <tr><td></td><td></td><td></td><td></td><td>3</td><td>6</td></tr> <tr><td></td><td></td><td></td><td></td><td>3</td><td>7</td></tr> </table>					5	2					7	3					1	5					3	6					3	7																		
			3	8	5																																																																																																										
			2	3																																																																																																											
			1	1	5																																																																																																										
			7	7	0																																																																																																										
			8	8	5																																																																																																										
			4	0	7																																																																																																										
			1	3																																																																																																											
			1	2	2																																																																																																										
			4	0	7																																																																																																										
			5	2	9																																																																																																										
				5	2																																																																																																										
				7	3																																																																																																										
				1	5																																																																																																										
				3	6																																																																																																										
				3	7																																																																																																										
	$27 \times 363 = 9801$	$42 \times 178 = 7476$	$21 \times 65 = 1365$																																																																																																												
Ik schat:	$30 \times 300 = 9000$	$40 \times 200 = 8000$	$20 \times 65 = 1300$																																																																																																												
	<table border="1"> <tr><td></td><td></td><td></td><td>3</td><td>6</td><td>3</td></tr> <tr><td></td><td></td><td></td><td>2</td><td>7</td><td></td></tr> <tr><td></td><td></td><td></td><td>2</td><td>5</td><td>4</td></tr> <tr><td></td><td></td><td></td><td>7</td><td>2</td><td>6</td></tr> <tr><td></td><td></td><td></td><td>1</td><td></td><td></td></tr> <tr><td></td><td></td><td></td><td>9</td><td>8</td><td>0</td></tr> </table>				3	6	3				2	7					2	5	4				7	2	6				1						9	8	0	<table border="1"> <tr><td></td><td></td><td></td><td>1</td><td>7</td><td>8</td></tr> <tr><td></td><td></td><td></td><td>4</td><td>2</td><td></td></tr> <tr><td></td><td></td><td></td><td>3</td><td>5</td><td>6</td></tr> <tr><td></td><td></td><td></td><td>7</td><td>1</td><td>2</td></tr> <tr><td></td><td></td><td></td><td></td><td></td><td></td></tr> <tr><td></td><td></td><td></td><td>7</td><td>4</td><td>7</td></tr> </table>				1	7	8				4	2					3	5	6				7	1	2										7	4	7	<table border="1"> <tr><td></td><td></td><td></td><td></td><td>6</td><td>5</td></tr> <tr><td></td><td></td><td></td><td></td><td>2</td><td>1</td></tr> <tr><td></td><td></td><td></td><td></td><td>6</td><td>5</td></tr> <tr><td></td><td></td><td></td><td></td><td>1</td><td>3</td></tr> <tr><td></td><td></td><td></td><td></td><td></td><td></td></tr> <tr><td></td><td></td><td></td><td></td><td>1</td><td>3</td></tr> </table>					6	5					2	1					6	5					1	3											1	3
			3	6	3																																																																																																										
			2	7																																																																																																											
			2	5	4																																																																																																										
			7	2	6																																																																																																										
			1																																																																																																												
			9	8	0																																																																																																										
			1	7	8																																																																																																										
			4	2																																																																																																											
			3	5	6																																																																																																										
			7	1	2																																																																																																										
			7	4	7																																																																																																										
				6	5																																																																																																										
				2	1																																																																																																										
				6	5																																																																																																										
				1	3																																																																																																										
				1	3																																																																																																										

De overige oefeningen los je op in je werkschrift. Noteer eerst de schatting.

- $13 \times 516 = 6708$
- $37 \times 237 = 8769$
- $23 \times 430 = 9890$
- $11 \times 489 = 5379$
- $56 \times 142 = 7952$
- $81 \times 106 = 8586$
- $72 \times 214 = 15408$

- Ik schat:
- $10 \times 500 = 5000$
 - $40 \times 200 = 8000$
 - $25 \times 400 = 10000$
 - $10 \times 500 = 5000$
 - $50 \times 150 = 7500$
 - $80 \times 100 = 8000$
 - $70 \times 200 = 14000$



Raadpleeg nu de correctiesleutel. Kijk na en verbeter.



Verdwaald in New York?



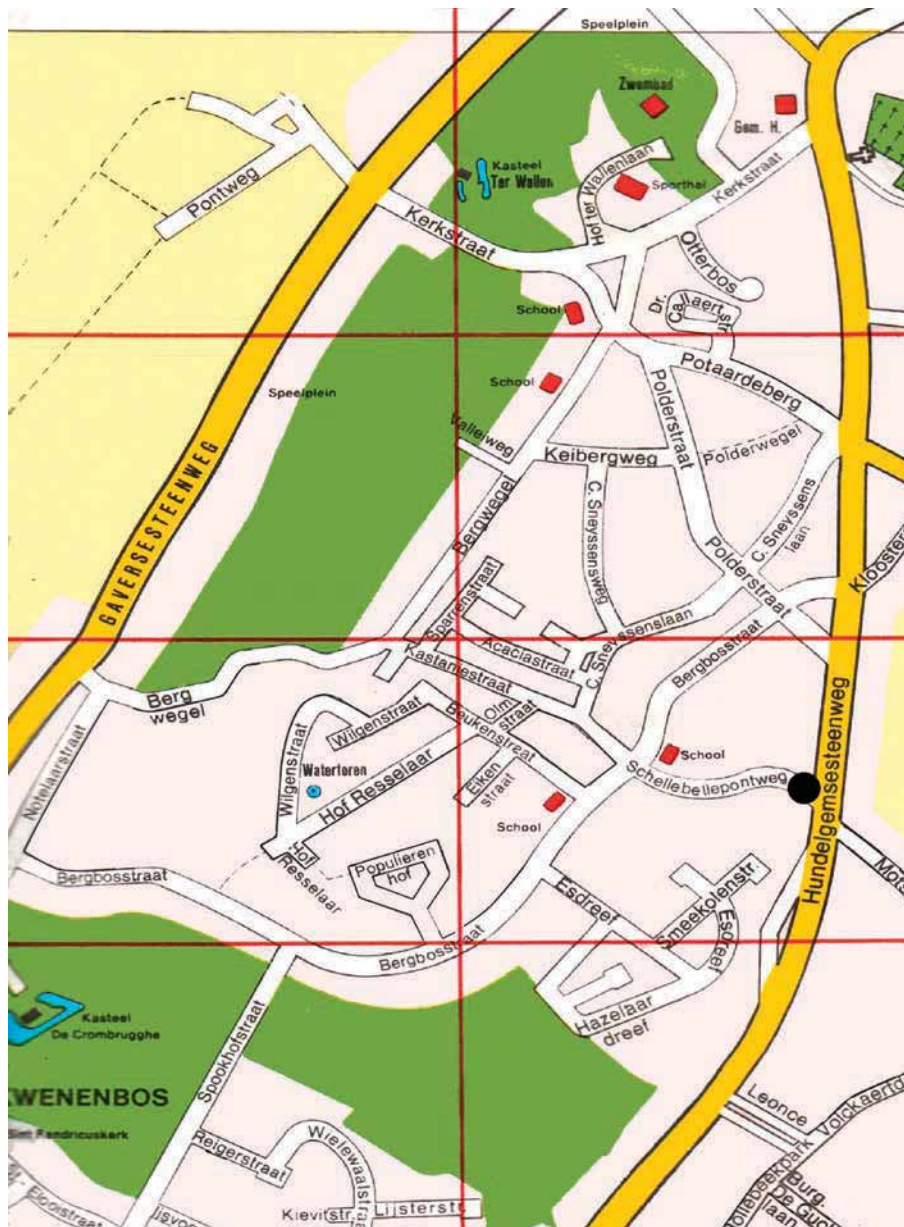
Dit kun je al

Je kunt een weg aanduiden en beschrijven op een eenvoudige plattegrond en op een plattegrond van de omgeving van de school.



Dit kun je straks

Je kunt een weg aanduiden en beschrijven op een stratenplan.
Je kunt een beschreven weg op een stratenplan volgen.





1 Waar kom je terecht? Vertrek telkens aan het zwarte merkpunt.

- a. Vertrek richting Schellebellepontweg. Neem de eerste straat rechts. Neem de eerste straat links.
Waar ben je? **in de Polderstraat**
- b. Vertrek richting Schellebellepontweg. Neem de tweede straat rechts. Neem de derde straat links.
Waar ben je? **in de Polderstraat**
- c. Vertrek richting Schellebellepontweg. Neem de eerste straat links. Neem de tweede straat links.
Waar ben je? **in de Spookhofstraat**
- d. Vertrek richting Schellebellepontweg. Neem de tweede straat rechts.
Waar ben je? **in de C. Sneyssenslaan**
- e. Vertrek richting Schellebellepontweg. Neem de derde straat rechts. Neem de eerste straat rechts.
Waar ben je? **in de Acaciastraat**
- f. Vertrek richting Schellebellepontweg. Neem de eerste straat rechts. Neem de eerste straat links. Neem de tweede straat links.
Waar ben je? **in de Keibergweg**
- g. Vertrek richting Schellebellepontweg. Neem de eerste straat rechts. Neem de eerste straat links. Neem de eerste straat rechts.
Waar ben je? **in de C. Sneyssenslaan**

2 Noteer zelf wegbeschrijvingen. Een klasgenoot volgt telkens de weg. (persoonsgebonden)

- a.
.....
Waar ben je?
- b.
.....
Waar ben je?
- c.
.....
Waar ben je?