

Naam: _____

Datum: _____

Hier oefen ik op:

- samengestelde woorden schrijven;
- meervouden op -en, -s en -eren schrijven;
- de regel voor verdubbelen van de medeklinker en verenkelen toepassen bij het schrijven van meervouden;
- meervouden schrijven waarbij s verandert in z en f verandert in v.

1

9

Samen zijn we sterk

- Zoek met elk woord twee samengestelde woorden.
- Gebruik indien nodig een woordenboek.
- Schrijf de samengestelde woorden op.

meerdere antwoorden mogelijk

gras grasspriet, grasmaaier, grasveld ...**hand** handschoen, handboek, handdoek ...**vis** goudvis, vissoep, zwaardvis ...**tien** vijftien, achttien, tienvoud ...**brood** broodplank, brooddoos, suikerbrood ...**vogel** vogelnest, roofvogel, zwemvogel ...**zwem** zwembad, zwembroek, zwemvijver ...**braad** braadworst, braadpan, braadslee ...

- Kies een samengesteld woord uit.
- Schrijf met dat woord een goede zin.

1 eigen antwoord

Vaste plaatsen



- Schrijf de zinnen op.
- Zet de woorden in de goede volgorde.
- Begin met het woord met de hoofdletter.
- Schrijf de vetgedrukte woorden in het meervoud.

1 **voetbal** – Ik – de – de – leg – **schoolbel** – ik – als – hoor – weg .

Ik leg de voetballen weg als ik de schoolbellen hoor.

2 door – **wandelt** – **straat** – de – De – **boef** .

De boeven wandelen door de straten.

3 **winkel** – **ei** – koop – ik – In – die – **hoepel** – en – **kapstok** , .

In die winkels koop ik eieren, hoepels en kapstokken.

4 **kind** – troost – enge – na – **moeder** – De – **droom** – de .

De moeders/De kinderen troosten de kinderen/de moeders na enge dromen.

5 **duif** – **muis** – **poes** – zie – Ik – tuin – in – de – en , .

Ik zie duiven, muizen en poezen in de tuin.

Dit vindt de juf/de meester van mijn taak: _____



Even opfrissen

Naam: _____

Klas: _____ Datum: _____



1 Werkwoorden

11 Vul de tabel aan. Kijk naar het voorbeeld

werken	ik werk	jij werkt	hij werkt	wij werken
wandelen _____	ik wandel _____	jij wandelt	hij wandelt _____	wij wandelen _____
vliegen	ik vlieg _____	jij vliegt _____	hij vliegt _____	wij vliegen _____

2 Werkwoorden

Vul de zinnen aan met de juiste vorm van het werkwoord dat tussen haakjes staat.

1 (vertellen) Ik vertel _____ jullie een stukje uit het verhaal van Roodkapje.

2 (wandelen) Vandaag wandelt _____ Roodkapje door het bos.

3 (zingen) Ze zingt _____ een vrolijk lied.

4 (horen) Jij hoort _____ haar toch ook zingen?

3 Persoonsvorm

Lees het dagboekfragment.

Omkring de persoonsvorm in elke zin.

Vandaag was ik weer erg bang.

Ik hoorde een vreemd geluid op onze zolder.

Met knikkende knieën ging ik een kijkje nemen.

Weet je wat ik zag?

De kat van onze buren had kleintjes gekregen!

Hoe deed ik het?



Ik denk



Juf/Meester vindt

Vrolijk wringen

■ Geef elk woord het juiste kopje: vr- of wr-.

vr__iend

wr__ijven

wr__eed

wr__aak

vr__aag

vr__oeg

wr__ingen

vr__eemd

wr__ok

vr__eugde

■ Schrijf de woorden over in het goede vak.

vr-	wr-
<u>vriend</u>	<u>wrijven</u>
<u>vraag</u>	<u>wreed</u>
<u>vroeg</u>	<u>wraak</u>
<u>vreemd</u>	<u>wringen</u>
<u>vreugde</u>	<u>wrok</u>
_____	_____

■ Welke letter zit er onder de vlek?

■ Kies uit t, d, p en b.

■ Schrijf de woorden goed op.

roeiboo  roeiboot

voetsta  voetstap

bosbran  bosbrand

spinnenwe  spinnenweb

kleerkas  kleerkast

eilan  eiland

wree  wreed

erwtensoe  erwtensoep

gezon  gezond

bolhoe  bolhoed

boodsch  boodschap

voorbeel  voorbeeld

schoolfees  schoolfeest

automaa  automaat

wra  wrat

pruimentaar  pruimentaart

1

- Teken een scherpe hoek, een stompe hoek en een rechte hoek.
- Benoem de hoeken.
- Noteer de hoeken van klein naar groot.
- Gebruik je geodriehoek en tekenpotlood.

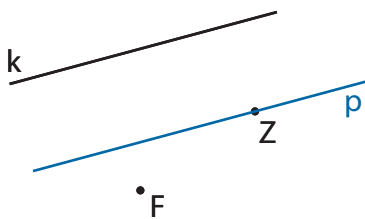
M
MK 1



_____ < _____ < _____ meerdere oplossingen mogelijk

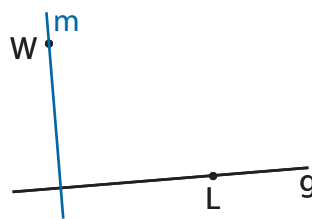
2

- Lees de opdracht. Teken er de gevraagde rechte bij.
- Geef de rechten de passende naam.
- Noteer het passende symbool.



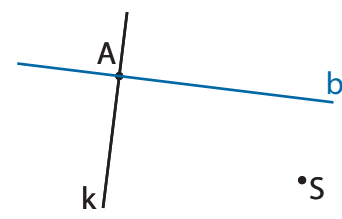
Teken een rechte p door punt Z evenwijdig aan de rechte k.

$$p \parallel k$$



Teken een rechte m door punt W loodrecht op de rechte g.

$$m \perp g$$

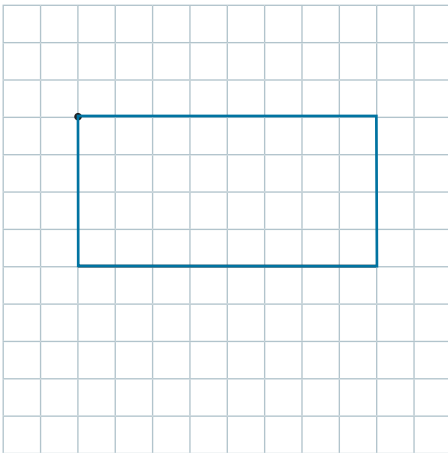


Teken een rechte b door punt A loodrecht op de rechte k.

$$k \perp b$$

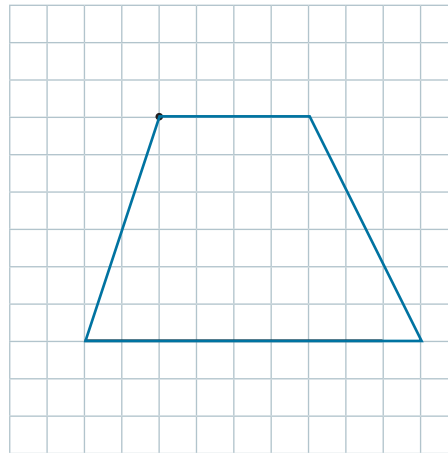
3

- Teken de vierhoeken. Kies uit: rechthoek, parallellogram, ruit en trapezium.
- Gebruik de basis en het gegeven hoekpunt.
- Noteer de naam onder de vierhoek.
- Kruis bij elke vierhoek de passende eigenschappen aan.
- Gebruik je geodriehoek en je tekenpotlood.



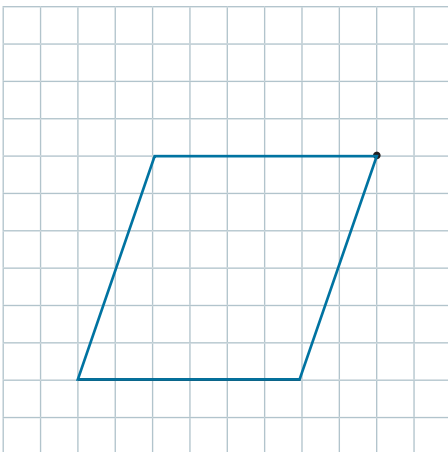
rechthoek

- 4 rechte hoeken
- overstaande of tegenoverliggende hoeken gelijk
- 4 gelijke zijden
- overstaande of tegenoverliggende zijden gelijk
- 2 paar evenwijdige zijden
- minstens 1 paar evenwijdige zijden



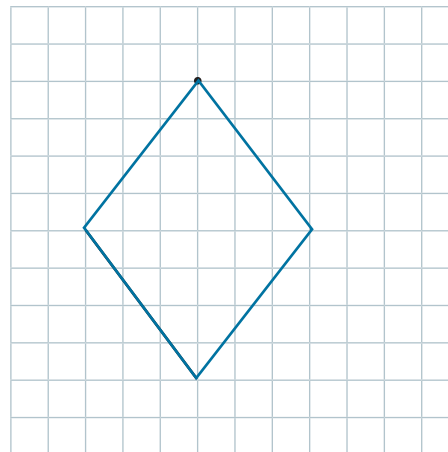
trapezium

- 4 rechte hoeken
- overstaande of tegenoverliggende hoeken gelijk
- 4 gelijke zijden
- overstaande of tegenoverliggende zijden gelijk
- 2 paar evenwijdige zijden
- minstens 1 paar evenwijdige zijden



parallellogram

- 4 rechte hoeken
- overstaande of tegenoverliggende hoeken gelijk
- 4 gelijke zijden
- overstaande of tegenoverliggende zijden gelijk
- 2 paar evenwijdige zijden
- minstens 1 paar evenwijdige zijden



ruit

- 4 rechte hoeken
- overstaande of tegenoverliggende hoeken gelijk
- 4 gelijke zijden
- overstaande of tegenoverliggende zijden gelijk
- 2 paar evenwijdige zijden
- minstens 1 paar evenwijdige zijden

