

Naam: _____

Datum: _____

Hier oefen ik op:

- het schrijven van woorden met verdubbelen van de medeklinker en verenkelen van de klinker;
- het schrijven van samengestelde woorden.

1

Veel woorden



4

- Schrijf het meervoud van de woorden op.

paard paarden

droom dromen

potlood potloden

boekentas boekentassen

fiets fietsen

bosbes bosbessen

kast kasten

mes messen

schoolboek schoolboeken

kantoor kantoren

tomaat tomaten

getal getallen

2

Woorden bij prenten

- Schrijf bij elke prent het goede woord.



boekentas



telefoon



tennisbal



aardappel



vrachtwagen



dolfijn



paddenstoel



kasteel



pennenzak

- Kies een woord uit.
- Schrijf met dat woord een goede zin.


1 eigen antwoord

3

Samen + voegen = samenvoegen

9

- Verbind de woorden die bij elkaar horen.
- Voeg beide woorden samen.
- Schrijf de woorden op.



bank + kaart = bankkaart

brood + doos = brooddoos

fiets + stuur = fietsstuur

hand + doek = handdoek

acht + tien = achttien

Dit vindt de juf/de meester van mijn taak: _____



Even opfrissen

Naam: _____

Klas: _____ Datum: _____

1 Zinsdelen in een recensie

- Lees de recensie aandachtig.
- Onderstreep in elke zin het onderwerp.
- Omkring elke persoonsvorm met potlood.
- Omkring de andere werkwoorden.



Recensie *Chez Goelio* Eten - ★★★

Ik vond het eten lekker.

Het dessert smaakte me bijzonder goed.

De chef vroeg me vriendelijk om mee naar de keuken te komen.

2 Waar en wanneer?

- Lees de tekst.
- Markeer de waar-delen en de wanneer-delen.
- Schrijf de waar-delen en de wanneer-delen in de juiste kolom.

Op **vrijdag** halen we frieten **in de frituur**.

We praten over wat er **vandaag** **op school** gebeurd is.

waar-delen	wanneer-delen
<u>in de frituur</u>	<u>op vrijdag</u>
<u>op school</u>	<u>vandaag</u>

3 Zinsdelen in een tekst

- Lees de tekst aandachtig.
- Onderstreep in elke zin het onderwerp.
- Markeer de waar-delen en de wanneer-delen.
- Schrijf eronder 'waar' en 'wanneer'.

In het restaurant van chef Goelio geniet iedereen dagelijks van lekker eten.

waar

wanneer

Hij leest 's avonds graag de recensies, dat doet hij in de bar.

wanneer

waar

Hoe deed ik de taak?



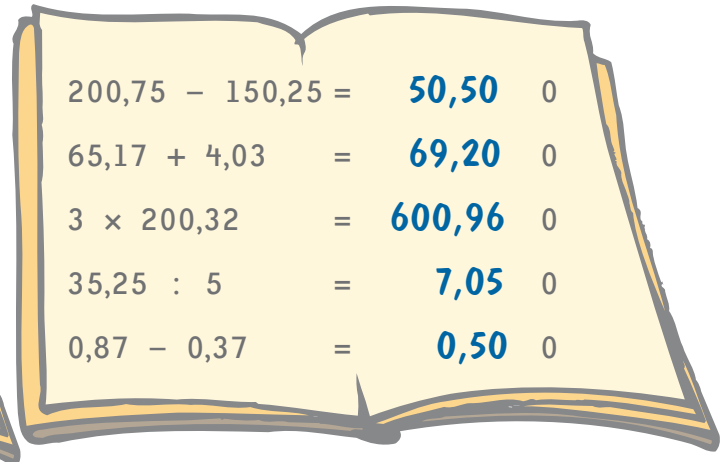
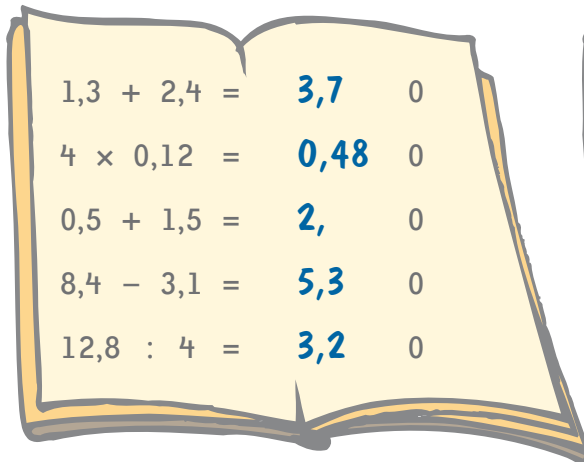
Ik denk



Juf/Meester vindt

1

Los op.



2

Los op.

$0,3 + 0,5 = 0,8$	$0,23 + 0,7 = 0,93$
$0,6 + 0,2 = 0,8$	$0,04 + 0,06 = 0,10$
$0,4 + 0,6 = 1$	$0,8 + 0,08 = 0,88$
$32,3 + 10,2 = 42,5$	$10,36 + 20,14 = 30,50$
$29,9 + 30,1 = 60$	$250,30 + 750,20 = 1000,50$



Neem nu de correctiesleutel, kijk na en verbeter.

3

Los op.

$0,8 - 0,3 = 0,5$	$0,75 - 0,35 = 0,40$	$1,9 - 1,3 = 0,6$
$0,6 - 0,2 = 0,4$	$0,60 - 0,04 = 0,56$	$35,4 - 5,1 = 30,3$
$2 - 0,5 = 1,5$	$300,33 - 100,23 = 200,10$	$20,83 - 15,8 = 5,03$

4

Los op.

$3 \times 0,3 = 0,9$	$4 \times 0,02 = 0,08$	$3 \times 0,21 = 0,63$
$8 \times 10,1 = 80,8$	$3 \times 100,10 = 300,30$	$4 \times 20,02 = 80,08$
$2 \times 0,5 = 1$	$2 \times 500,05 = 1000,10$	$4 \times 5,1 = 20,4$



Neem nu de correctiesleutel, kijk na en verbeter.

5**Los op.**

$0,8 : 2 = 0,4$

$28,14 : 7 = 4,02$

$16,4 : 4 = 4,1$

$0,6 : 3 = 0,2$

$80,12 : 4 = 20,03$

$6,6 : 6 = 1,1$

$50,5 : 5 = 10,1$

$33,09 : 3 = 11,03$

$500,25 : 5 = 100,05$

1**Los op.**

$0,34 + 0,06 = 0,40$

$300,6 - 100,6 = 200$

$0,64 : 2 = 0,32$

$4 \times 0,02 = 0,08$

$3 \times 3,21 = 9,63$

$60,30 : 3 = 20,10$

$0,2 + 0,8 = 1$

$2,6 - 1,4 = 1,2$

$1,3 + 0,5 = 1,8$

2**Noteer de formules en los ze op.**

De helft van 800,50 is ...

$800,50 : 2 = 400,25$

Het tweevoud van 50,3 is ...

$2 \times 50,3 = 100,6$

Het derde deel van 27,18 is ...

$27,18 : 3 = 9,06$

De som van 36,07 en 13,93 is ...

$36,07 + 13,93 = 50$

Het verschil van 62,85 en 0,05 is ...

$62,85 - 0,05 = 62,80$

**Neem nu de correctiesleutel, kijk na en verbeter.****Remediëren**



België onder de loep



Dit kun je al

Je kunt straten en andere belangrijke locaties opzoeken op het stratenplan van de gemeente.

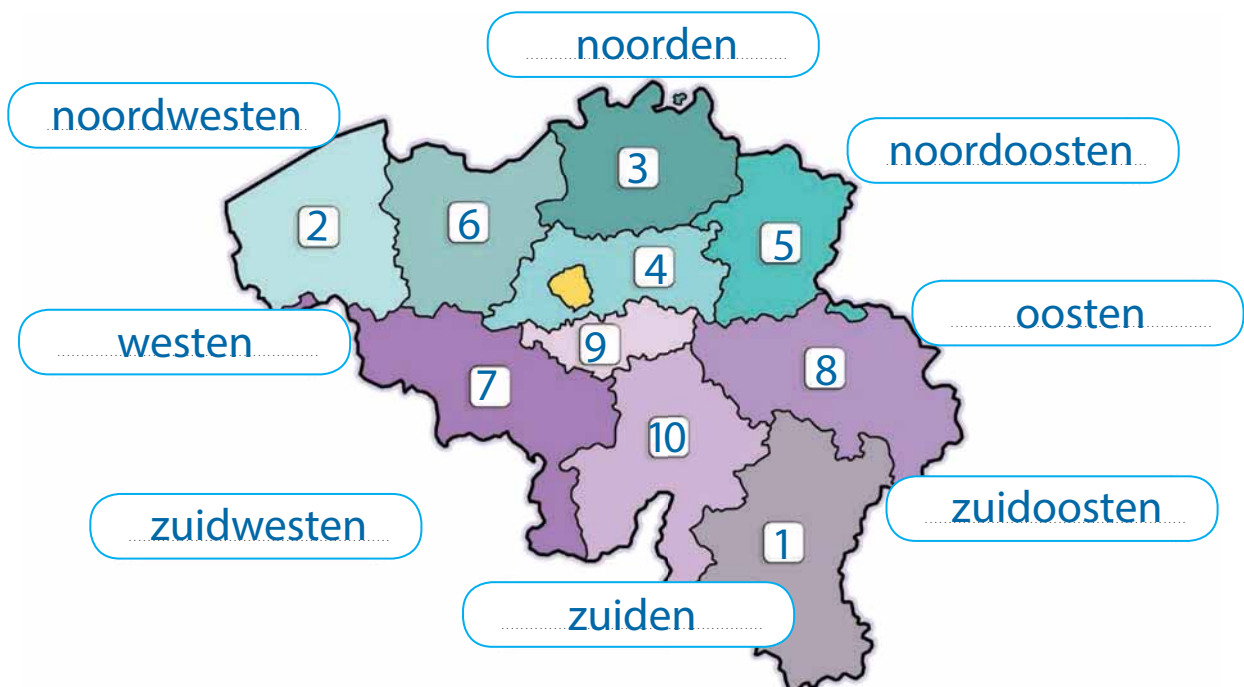


Dit kun je straks

Je kunt de provincies van België oriënteren met behulp van de windstreken.

1 Noteer de nummers van de provincies op de juiste plaats.

1 Luxemburg	6 Oost-Vlaanderen
2 West-Vlaanderen	7 Henegouwen
3 Antwerpen	8 Luik
4 Vlaams-Brabant	9 Waals-Brabant
5 Limburg	10 Namen



2 Noteer de hoofd- en tussenwindstreken in de juiste kaders.



3 Noteer een passend antwoord.

- Welke provincie ligt het meest noordelijk?

Antwerpen

- Welke provincie ligt ten oosten van West-Vlaanderen?

Oost-Vlaanderen

- Welke provincie ligt ten zuiden van de provincie Antwerpen?

Vlaams-Brabant

- Welke provincies grenzen aan de provincie Namen?

Luik

Luxemburg

Henegouwen

Waals-Brabant

- Hoeveel provincies telt België?

10