

Naam: _____

Datum: _____

Hier oefen ik op:

- het alfabetisch rangschikken volgens de eerste letter;
- het schrijven van meervouden en daarbij de aangeleerde spellingregels toepassen;
- het schrijven van verkleinwoorden en daarbij de aangeleerde spellingregels toepassen;
- het toepassen van de strategie voor verdubbelen van de medeklinker en verenkelen van de klinker.



Mooi op je plaats



- Schrijf elke reeks woorden in alfabetische volgorde op.

klopper – vergiet – braadpan – snijplank

braadpan, klopper, snijplank, vergiet

fornuis – oven – vaatwasser – koelkast

fornuis, koelkast, oven, vaatwasser

selder – wortel – prei – venkel

prei, selder, venkel, wortel



■ Vul de tabel aan.

grondwoord	meervoud	verkleinwoord
mes	<u>messen</u>	<u>mesje</u>
<u>ei</u>	<u>eieren</u>	eitje
<u>brood</u>	broden	<u>broodje</u>
<u>kind</u>	kinderen	<u>kindje</u>
kookpot	<u>kookpotten</u>	<u>kookpotje</u>
toestel	<u>toestellen</u>	<u>toestelletje</u>
<u>lied</u>	<u>liederen</u>	liedje
pan	<u>pannen</u>	<u>pannetje</u>
kom	<u>kommen</u>	<u>kommetje</u>
vlag	<u>vlaggen</u>	<u>vlaggetje</u>

■ Pas de woorden aan zodat ze in de zin passen.

rood	Ik pluk een <u>rode</u> bloem.
wit	Op het gras zit een <u>witte</u> meeuw.
zuur	Eet jij graag <u>zure</u> room?
hoog	Ik klim in een <u>hoge</u> boom.
vol	Sem valt in een <u>volle</u> emmer water.
druk	Wij wonen langs een <u>drukke</u> straat.
warm	Aan zee eet ik altijd een <u>warme</u> wafel.
fris	Met warm weer neem ik graag een <u>frisse</u> duik in het zwembad.
traag	De <u>trage</u> slak kruipt over het terras.
nat	De kleuter doet zijn <u>natte</u> broek uit.

Dit vindt de juf/de meester van mijn taak: _____





Naam: _____

Datum: _____

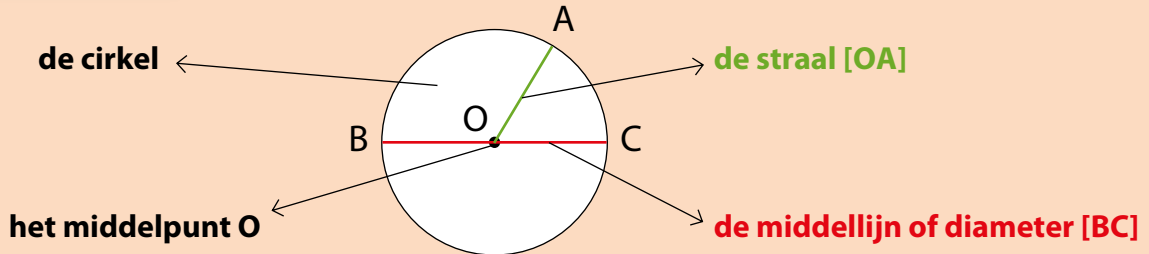
Klas: _____

Klasnummer: _____



Tip!

De cirkel



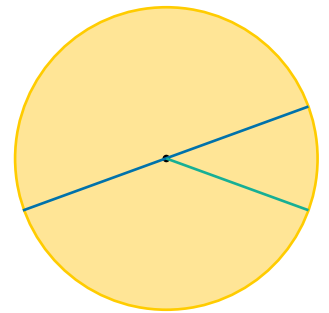
1 Benoem de delen van deze figuur.

We noemen deze figuur een **cirkel** _____.

Het punt in het midden van de cirkel is het **middelpunt** _____.

De blauwe lijn is de **diameter** _____ of de **middellijn** _____.

De groene lijn is de **straal** _____.



2 Kleur de figuren die dezelfde vorm hebben in dezelfde kleur.

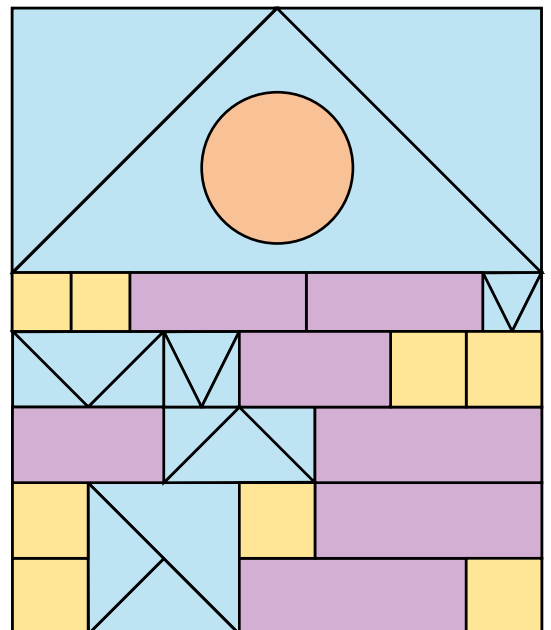
Noteer het aantal vormen dat je ziet.

Ik zie 8

Ik zie 1

Ik zie 7

Ik zie 18



3 □ Los op.

$$\begin{array}{ll} 6 \times 50 = 300 & 5 \times 60 = 300 \\ 8 \times 20 = 160 & 30 \times 9 = 270 \\ 8 \times 90 = 720 & 80 \times 6 = 480 \end{array}$$

4 □ Los op. Je mag tussenstappen gebruiken.

$$\begin{array}{ll} 4 \times 18 = (4 \times 10) + (4 \times 8) & 2 \times 65 = (2 \times 60) + (2 \times 5) \\ \quad = 40 + 32 = 72 & \quad = 120 + 10 = 130 \\ 3 \times 22 = (3 \times 20) + (3 \times 2) & 8 \times 111 = (8 \times 100) + (8 \times 10) + (8 \times 1) \\ \quad = 60 + 6 = 66 & \quad = 800 + 80 + 8 = 888 \\ 25 \times 3 = (20 \times 3) + (5 \times 3) & 91 \times 6 = (90 \times 6) + (1 \times 6) \\ \quad = 60 + 15 = 75 & \quad = 540 + 6 = 546 \\ 4 \times 81 = (4 \times 80) + (4 \times 1) & 25 \times 3 = (20 \times 3) + (5 \times 3) \\ \quad = 320 + 4 = 324 & \quad = 60 + 15 = 75 \\ 3 \times 26 = (3 \times 20) + (3 \times 6) & 52 \times 7 = (50 \times 7) + (2 \times 7) \\ \quad = 60 + 18 = 78 & \quad = 350 + 14 = 364 \end{array}$$

5 □ Lees het vraagstuk.

□ Los op met behulp van het stappenplan.

Menno is ~~35 jaar~~ en laadt fruit in de bestelwagen. Eerst 23 kg peren. De kist appels weegt 5 kg meer en de doos bananen weegt 4 kg minder dan de peren. Hoeveel kg weegt het fruit samen?

kist appels: $23 + 5 = 28$
doos bananen: $23 - 4 = 19$
samen: $23 + 28 + 19 = 70 \rightarrow 70 \text{ kg}$

Antwoordzin: Het fruit weegt samen 70 kg.

Ik vond de taak



Ik maakte de taak alleen.



Ik kreeg hulp.



Opmerking ouders: _____