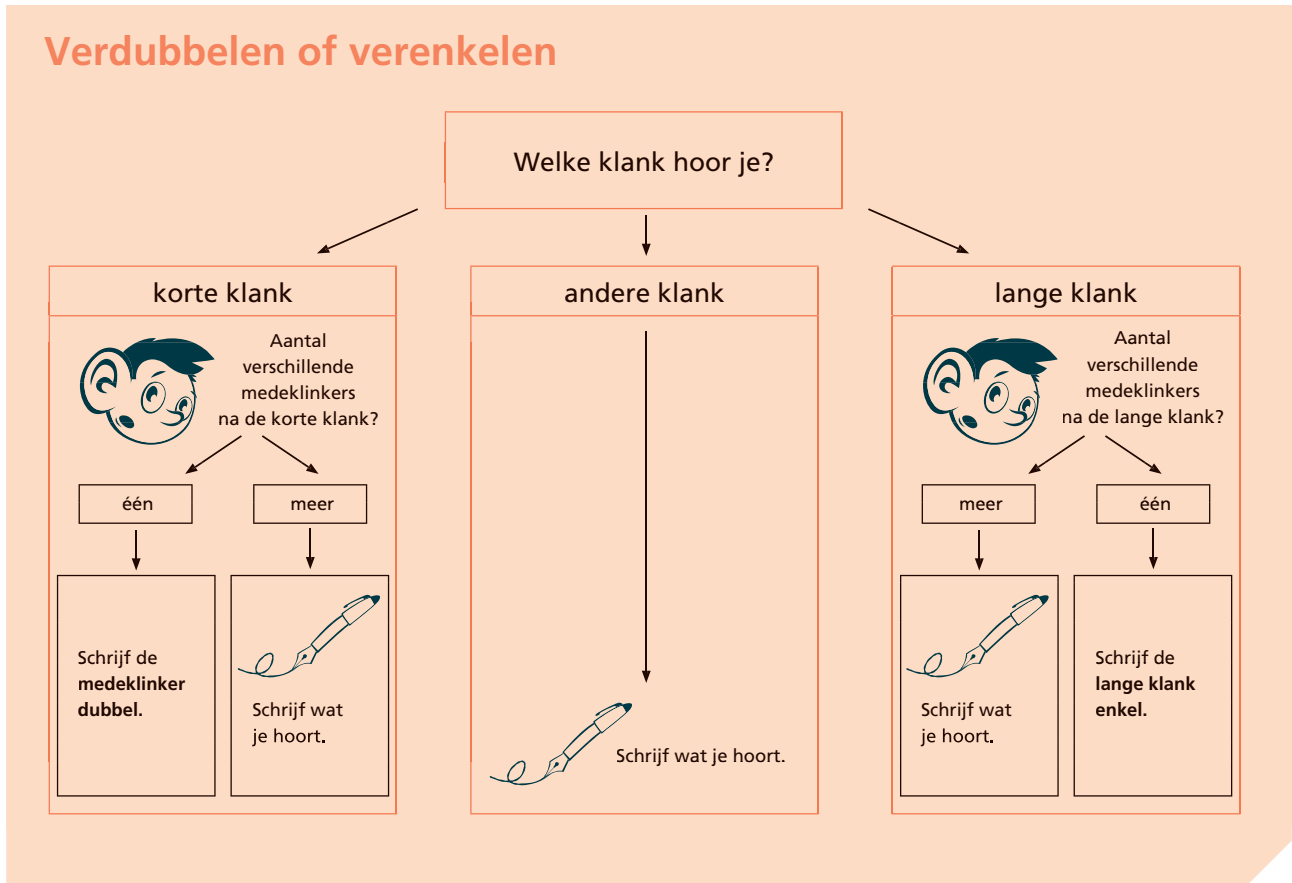


T6 Rem 23: stukjeswoorden met een korte of een lange klank schrijven

Verdubbelen of vereenvoudigen



1 Kort en lang en dan?

- Lees de woorden.
- Schrijf de woorden over in het goede vak.

dokter – meester – slager – bakker – visser – kapper – jager – bewaker – verkoopster

 <p>Ik hoor kort.</p>  <p>Ik schrijf de medeklinker dubbel.</p>	 <p>Ik schrijf wat ik hoor.</p>	 <p>Ik hoor lang.</p>  <p>Ik schrijf de klinker enkel.</p>
<p><u>bakker</u></p> <p><u>visser</u></p> <p><u>kapper</u></p> <p>_____</p>	<p><u>dokter</u></p> <p><u>meester</u></p> <p><u>verkoopster</u></p> <p>_____</p>	<p><u>slager</u></p> <p><u>jager</u></p> <p><u>bewaker</u></p> <p>_____</p>



Naam: _____

Datum: _____

Klas: _____

Klasnummer: _____

- 1 Maak een schatting. meerdere schattingen mogelijk
 Kruis aan wat past.

bewerking	schatting	Het product zal
$2 \times 282 =$	$2 \times 300 = 600$	<input checked="" type="checkbox"/> kleiner zijn dan de schatting <input type="checkbox"/> groter zijn dan de schatting
$3 \times 268 =$	$3 \times 300 = 900$	<input checked="" type="checkbox"/> kleiner zijn dan de schatting <input type="checkbox"/> groter zijn dan de schatting
$2 \times 426 =$	$2 \times 400 = 800$	<input type="checkbox"/> kleiner zijn dan de schatting <input checked="" type="checkbox"/> groter zijn dan de schatting

- 2 Maak een schatting. meerdere schattingen mogelijk
 Los cijferend op.
 Controleer.

$5 \times 181 = 905$

$s: 5 \times 200 = 1\ 000$

Het product zal kleiner/groter zijn dan de schatting.

	H	T	E	
	1	8	1	
			5	✗
×	9	0	5	

Het product ligt in de buurt van mijn schatting.

ja nee

$4 \times 241 = 964$

$s: 4 \times 200 = 800$

Het product zal kleiner/groter zijn dan de schatting.

	H	T	E	
	2	4	1	
			4	✗
×	9	6	4	

Het product ligt in de buurt van mijn schatting.

ja nee

$3 \times 215 = 645$

$s: 3 \times 200 = 600$

Het product zal kleiner/groter zijn dan de schatting.

	H	T	E	
	2	1	5	
			3	✗
×	6	4	5	

Het product ligt in de buurt van mijn schatting.

ja nee

$2 \times 374 = 748$

$s: 2 \times 400 = 800$

Het product zal kleiner/groter zijn dan de schatting.

	H	T	E	
	3	7	4	
			2	✗
×	7	4	8	

Het product ligt in de buurt van mijn schatting.

ja nee

Tip!



Getallen afronden



→ naar het dichtstbijzijnde **tiental** (T):
Onderstreep de tientallen.

Kijk naar het cijfer rechts van de tientallen.

Cijfer 0, 1, 2, 3 of 4? Rond af naar ↓.

Cijfer 5, 6, 7, 8 of 9? Rond af naar ↑.

$$1 \underline{2} \textcircled{3} \rightarrow 120$$

$$5 \underline{6} \textcircled{7} \rightarrow 570$$

→ naar het dichtstbijzijnde **honderdtal** (H):
Onderstreep de honderdtallen.

Kijk naar het cijfer rechts van de honderdtallen.

Cijfer 0, 1, 2, 3 of 4? Rond af naar ↓.

Cijfer 5, 6, 7, 8 of 9? Rond af naar ↑.

$$\underline{4} \textcircled{3} 5 \rightarrow 400$$

$$\underline{7} \textcircled{6} 1 \rightarrow 800$$

3 Gebruik het onthoudkader.

Rond af naar het dichtstbijzijnde tiental.

$234 \rightarrow 230$

$842 \rightarrow 840$

$435 \rightarrow 440$

$788 \rightarrow 790$

$657 \rightarrow 660$

$358 \rightarrow 360$

Rond af naar het dichtstbijzijnde honderdtal.

$234 \rightarrow 200$

$842 \rightarrow 800$

$435 \rightarrow 400$

$788 \rightarrow 800$

$657 \rightarrow 700$

$358 \rightarrow 400$

4 Schakel: plaats haakjes rond de getallen die je eerst samenneemt.

Reken daarna uit.

$175 + 25 + 248 = (175 + 25) + 248 = 200 + 248 = 448$

$250 + 34 + 50 = (250 + 50) + 34 = 300 + 34 = 334$

$97 + 258 + 103 = (97 + 103) + 258 = 200 + 258 = 458$

$466 + 34 + 63 = (466 + 34) + 63 = 500 + 63 = 563$

$182 + 14 + 18 + 286 = (182 + 18) + (286 + 14) = 200 + 300 = 500$

Ik vond de taak



Ik maakte de taak alleen.



Ik kreeg hulp.



Opmerking ouders: _____



Ook met een handicap hoor je erbij!



Dit kun je al

Je weet dat je bepaalde ziekten niet kunt vermijden.
Voor sommige onvolkomenheden ken je oplossingen.
Je weet wat je moet doen als je luizen hebt.



Dit kun je straks

Je weet dat niet elke mens volmaakt is.
Je hebt respect voor vriendjes met een uiterlijke onvolmaaktheid of handicap.

We zijn niet volmaakt ...
















1 Vul het beeldrooster van boven naar onder aan.

Kies uit: bril – gips – steunzool – rolstoel – kruk – blindenstok – beugel – gebarentaal – brailleschrift – hoorapparaat – contactlens.

O O K			M E T			E E N		
-------	--	--	-------	--	--	-------	--	--

		3		4		6			
									
		S	B			C			
2				5		7			
		T	L			O			8
1		B	E	I	B	N	G		
		R	U	N	R	A	B	I	
H	A	N	D	I	C	A	P		
O	I	Z	E	L	T	R	S		
O	L	O	N			L	E		
R	L	O	S			E	N		
A	E	L	T			N	T		
P	S			O			S	A	
P	C			K					A
A	H							L	
R	R								
A	I								
A	F								
T	T								

		9		10		11			
									
		R	K			B			
H	O	O	R	J	E	E	R	B	IJ
		L	U			U			
		S	K			G			
		T			E				
		O			L				
		E							
		L							

!!!