

Naam: _____

Datum: _____

Hier oefen ik op:

- het schrijven van weetwoorden met ei of ij;
- het schrijven van samengestelde woorden met verdubbelen van de medeklinker en verenkelen van de klinker.

1

Een fijn geheim



4

- Schrijf bij elke prent het goede woord met ei of ij.



zeilboot _____



tijger _____



eieren _____




nijlpaard _____



konijn _____



aardbei _____



paleis _____



dolfijn _____



meisje _____

- Kies een woord uit.
- Schrijf met dat woord een goede zin.

1 eigen antwoord _____

2

Niet twijfelen

- Schrijf bij elke omschrijving het goede woord met ei of ij.

Niet zeker zijn over iets

twijfelen _____

Iets wat je niet verder mag vertellen

geheim _____

Niet weggaan

blijven _____

Dit neem je van mensen als je weggaat

afscheid _____

Persoon die zwaar werk doet in een fabriek

arbeider _____

Woonhuis van een boer, met schuren en stallen

boerderij _____

Dit ben je als iets van jou is

eigenaar _____

Land dat volledig omgeven is door water

eiland _____

Pauze op school in de voor- of namiddag

speeltijd _____

Pijn aan je hoofd

hoofdpijn _____

3

Dubbele pret

11

- Zoek met elk woord twee samenstellingen. **eigen antwoord**

nummer nummerplaat _____

huisnummer _____

vader Vaderdag _____

grootvader _____

reken rekenboek _____

rekenles _____

appel appelboom _____

aardappel _____

kamer kamerplant _____

wachtkamer _____

regen regenjas _____

regenboog _____

Dit vindt de juf/de meester van mijn taak: _____





Naam: _____

Datum: _____



Klas: _____

Klasnummer: _____

1 Kruis de eigenschappen aan die bij de figuur horen.

<input checked="" type="checkbox"/> vlakke figuur <input checked="" type="checkbox"/> veelhoek <input type="checkbox"/> vierhoek <input type="checkbox"/> alle zijden gelijk	<input checked="" type="checkbox"/> vlakke figuur <input checked="" type="checkbox"/> veelhoek <input type="checkbox"/> vierhoek <input type="checkbox"/> alle zijden gelijk	<input checked="" type="checkbox"/> vlakke figuur <input checked="" type="checkbox"/> veelhoek <input checked="" type="checkbox"/> vierhoek <input checked="" type="checkbox"/> alle zijden gelijk

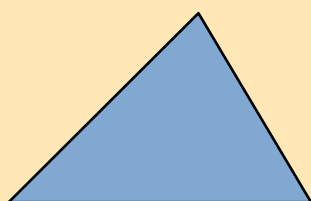
Tip!



Soorten driehoeken volgens de zijden




ongelijkbenige driehoek



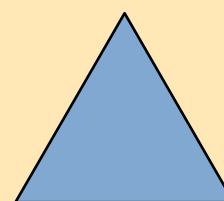
geen enkele zijde even lang

gelijkbenige driehoek



twee even lange zijden

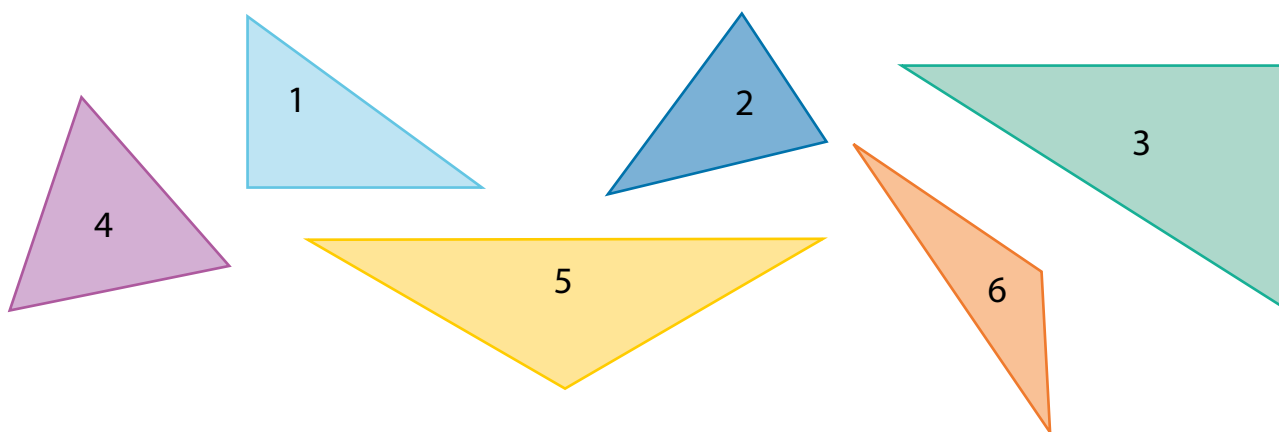
gelijkzijdige driehoek



drie even lange zijden



- 2** Schrijf de nummers van de driehoeken op de juiste plaats in de tabel.
 Vul de naam op de juiste plaats in: gelijkbenige, ongelijkbenige, gelijkzijdige.



HOEKEN		
drie scherpe	twee scherpe, een rechte	twee scherpe, een stompe
2, 4	1, 3	5, 6

ZIJDEN		
geen enkele zijde even lang	twee even lange zijden	drie even lange zijden
1, 3, 6	2, 4, 5	4
ongelijkbenige driehoeken	gelijkbenige driehoeken	gelijkzijdige driehoeken

- 3** Los op.

$$71 - 19 = \underline{71 - 20 + 1} = \underline{51 + 1} = \underline{52}$$

$$22 - 19 = \underline{22 - 20 + 1} = \underline{2 + 1} = \underline{3}$$

$$77 - 48 = \underline{77 - 50 + 2} = \underline{27 + 2} = \underline{29}$$

$$58 - 29 = \underline{58 - 30 + 1} = \underline{28 + 1} = \underline{29}$$

$$90 - 29 = \underline{90 - 30 + 1} = \underline{60 + 1} = \underline{61}$$

$$91 - 19 = \underline{91 - 20 + 1} = \underline{71 + 1} = \underline{72}$$

$$41 - 38 = \underline{40 + 1 - 38} = \underline{2 + 1} = \underline{3}$$

$$32 - 29 = \underline{32 - 30 + 1} = \underline{2 + 1} = \underline{3}$$

Ik vond de taak



Ik maakte de taak alleen.



Ik kreeg hulp.



Opmerking ouders: _____