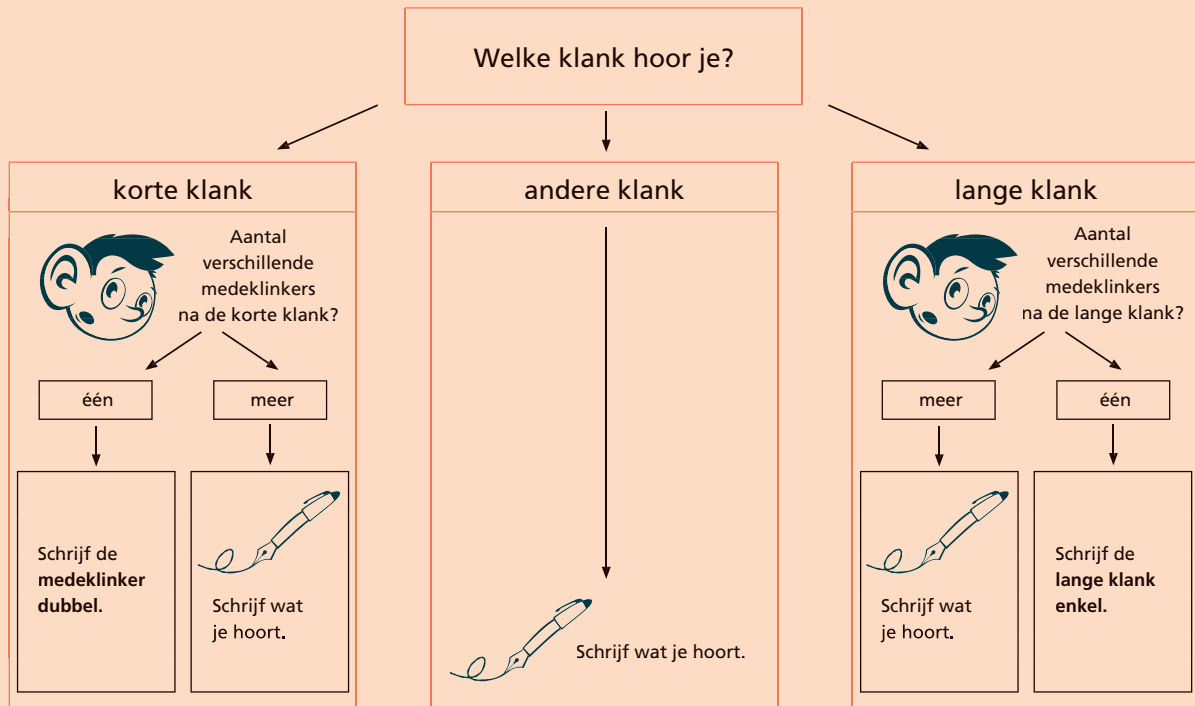


# T5 Rem 19: stukjeswoorden met een korte of een lange klank schrijven

## Verdubbelen of vereenvoudigen



### 1 Kronkel + lijn = kronkellijn

- Volg de lijnen.
- Voeg de woorden samen.
- Schrijf het nieuwe woord goed op.

|        |   |         |   |
|--------|---|---------|---|
| auto   | • | les     | • |
| regen  | • | laarzen | • |
| teken  | • | weg     | • |
| rubber | • | dag     | • |
| op     | • | doos    | • |
| letter | • | tellen  | • |

tekenles \_\_\_\_\_

rubberlaarzen \_\_\_\_\_

autoweg \_\_\_\_\_

regendag \_\_\_\_\_

letterdoos \_\_\_\_\_

optellen \_\_\_\_\_

## 2

### Donderwolven en een regenboog

■ Schrijf onder elke prent het goede samengestelde woord.



vrachtwagen



tennisbal



regenjas



wereldbol



pennenzak



kleurpotloden

■ Kies drie woorden uit.

■ Gebruik elk van die woorden in een goede zin.

1 **eigen antwoord**

---

---

2

---

---

3

---

---

■ Een foutje mag. Schrijf het hier eenmaal goed.  
Vertel me hoe je het doet!

---

---

#### Hoe deed ik de taak?



Ik denk



Juf/Meester vindt

**1** Hoeveel blijft er over?

$376 - 2 = 374$

$376 - 200 = 176$

$376 - 20 = 356$

$376 - 22 = 354$

$376 - 220 = 156$

$376 - 202 = 174$

$243 - 1 = 242$

$243 - 100 = 143$


$243 - 10 = 233$


$243 - 11 = 232$

$243 - 110 = 133$

$243 - 101 = 142$

**2** Los op.

|   |            |            |            |
|---|------------|------------|------------|
|  | 4          | 200        | 20         |
| 325   | <b>321</b> | <b>125</b> | <b>305</b> |
| 746   | <b>742</b> | <b>546</b> | <b>726</b> |
| 879   | <b>875</b> | <b>679</b> | <b>859</b> |
| 220   | <b>216</b> | <b>20</b>  | <b>200</b> |

|   |            |            |            |
|---|------------|------------|------------|
|  | 44         | 230        | 301        |
| 448   | <b>404</b> | <b>218</b> | <b>147</b> |
| 357   | <b>313</b> | <b>127</b> | <b>56</b>  |
| 576   | <b>532</b> | <b>346</b> | <b>275</b> |
| 984   | <b>940</b> | <b>754</b> | <b>683</b> |

**3** Los op.

$882 = 887 - 5$

$603 = 623 - 20$

$369 - 60 = 309$

$725 - 15 = 710$

$857 - 57 = 800$

$32 = 432 - 400$

$574 - 404 = 170$

$915 - 710 = 205$

$764 - 210 = 554$

$675 - 420 = 255$

$473 - 3 = 470$

$182 = 889 - 707$

$45 = 745 - 700$

$807 - 4 = 803$

$680 - 6 = 674$

**1** Vul de ontbrekende getallen in.

$154 = 54 + 100$

$725 = 765 - 40$

$445 - 20 = 425$

$379 - 25 = 354$

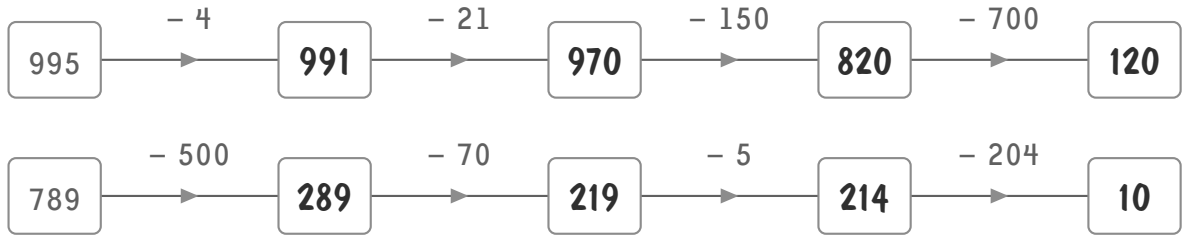
$866 - 50 = 816$


$675 - 400 = 275$

$768 - 55 = 713$

$579 - 38 = 541$

$624 - 12 = 612$

**2****Los op.****3****Vul alle vakken in.**

|  | 5          | 300        | 40         | 32         | 240        | 406        |
|---|------------|------------|------------|------------|------------|------------|
| 786   | <b>781</b> | <b>486</b> | <b>746</b> | <b>754</b> | <b>546</b> | <b>380</b> |
| 999   | <b>994</b> | <b>699</b> | <b>959</b> | <b>967</b> | <b>759</b> | <b>593</b> |
| 557   | <b>552</b> | <b>257</b> | <b>517</b> | <b>525</b> | <b>317</b> | <b>151</b> |
| 848   | <b>843</b> | <b>548</b> | <b>808</b> | <b>816</b> | <b>608</b> | <b>442</b> |

Remediëren

**4**



# Mijn omgeving



## Dit kun je al

Je weet welke dieren en planten leven in een moes- en bloementuin en in een park.



## Dit kun je straks

Je herkent in eigen omgeving een bos, een weide, een akker, een boomgaard, een poel, een vijver en een meer.  
Je kent enkele planten en dieren die erin leven.

### 1 Plaats de letter van de foto bij de passende omschrijving.



A



B



C



D



E



F



G



1 **Een meer:** een grote waterplas die door de natuur is gemaakt. Er is land rondom de plas. Meestal stromen rivieren ernaartoe.

C

2 **Een bos:** een stuk natuur dat uit bomen, struiken en planten bestaat. In een bos staan alle bomen dicht bij elkaar.

A

3 **Een weide:** een grasveld waarop koeien, paarden en andere boerderijdieren grazen. Er is vaak een sloot of prikkeldraad rond de weide.

F

4 **Een poel:** een waterplas die door de natuur is ontstaan. Een poel ligt tussen velden en weiden. Ze is niet erg groot en droogt in de zomer wel eens uit.

E

5 **Een boomgaard:** een stuk grond met fruit- of notenbomen. Een boomgaard wordt door mensen aangeplant.

B

6 **Een vijver:** een kleine waterplas die door mensen is gemaakt. Vijvers zijn vaak aangelegd om parken en tuinen te verfraaien.

G

7 **Een akker:** een stuk grond waarop de boer gewassen teelt, zoals maïs, bieten en aardappelen.

D



## 2 Kleur het cirkeltje groen als de uitspraak juist is, rood als ze fout is. Verbeter de foutieve uitspraken.

- In een boomgaard grazen veel koeien.

In een weide grazen veel koeien.

- Een poel wordt door mensen aangelegd.

– Een poel is een waterplas die door de natuur is ontstaan.

– Een vijver wordt door mensen aangelegd.

- Een vijver wordt soms gebruikt om vissen zoals goudvis, steur en koi te kweken.

- De akker wordt door de boer bewerkt. Hij beschermt zijn planten tegen onkruid en ongedierte.

- Een meer is een kleine waterplas die door de mens is gemaakt.

– Een meer is een grote waterplas die door de natuur is gemaakt.

– Een poel is een kleine waterplas die door de natuur is gemaakt.

- In het bos leven zowel zoogdieren als insecten.

- Een bos is een stuk grasland waarop alle bomen mooi op een rij en op eenzelfde afstand van elkaar zijn geplant.

– Een bos is een stuk natuur dat uit bomen, struiken en planten bestaat.

– Een boomgaard is een stuk grond waarop alle bomen mooi op een rij en op eenzelfde afstand van elkaar zijn geplant.

- In de weide graast het vee. Er is vaak prikkeldraad rond de weide.

