

# Even opfrissen

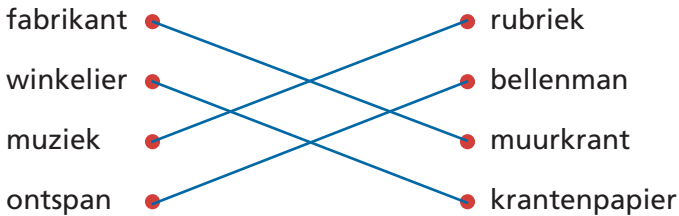
Naam: \_\_\_\_\_

Klas: \_\_\_\_\_ Datum: \_\_\_\_\_

## 1 Rijmen

15

- Lees de woorden.
- Verbind met het juiste rijmwoord.



## 2 Zelf rijmen

15

- Lees de zinnen.
- Vul aan met een rijmwoord.
- Omkring de woorden die rijmen.

meerdere antwoorden mogelijk

- Ik koop elke dag een krant. Ik stop hem in mijn fietsmand.
- Na een korte koffiestop, lees ik eerst een krantenkop.
- De artikels lees ik een voor een maar het weerbericht lees ik meteen.
- Mijn leesuur zit er op. De krant was weer top!

## 3 Een rijmgedicht

15

- Kies twee woorden die rijmen.
- Schrijf een zin met het eerste woord. Gebruik dat woord als laatste woord van de zin.
- Schrijf een zin met het tweede woord. Gebruik dat woord als laatste woord van de zin.

eigen antwoord

---

---

---

---

### Hoe deed ik de taak?



Ik denk



Juf/Meester vindt



- Onderzoek de zijden van de driehoeken met je geodriehoek.
- Benoem de driehoeken.

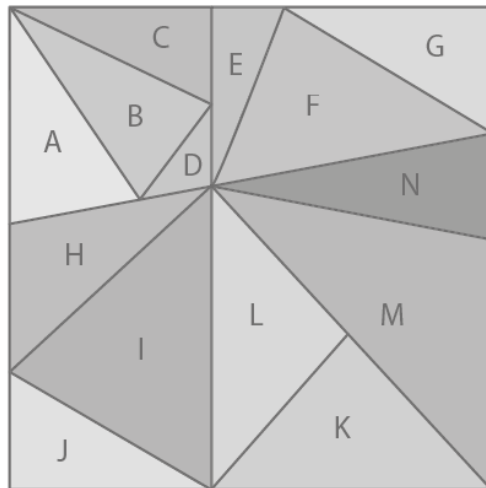
Materiaal: geodriehoek

Tip!

|                                |
|--------------------------------|
| <b>ongelijkbenige driehoek</b> |
| geen enkele zijde even lang    |

|                              |
|------------------------------|
| <b>gelijkbenige driehoek</b> |
| twee zijden even lang        |

|                               |
|-------------------------------|
| <b>gelijkzijdige driehoek</b> |
| drie zijden even lang         |



- A = ongelijkbenige driehoek
- B = ongelijkbenige driehoek
- C = ongelijkbenige driehoek
- D = ongelijkbenige driehoek
- E = ongelijkbenige driehoek
- F = ongelijkbenige driehoek
- G = ongelijkbenige driehoek
- H = ongelijkbenige driehoek
- I = ongelijkbenige driehoek
- J = ongelijkbenige driehoek
- K = gelijkbenige driehoek
- L = gelijkbenige driehoek
- M = ongelijkbenige driehoek
- N = gelijkbenige driehoek

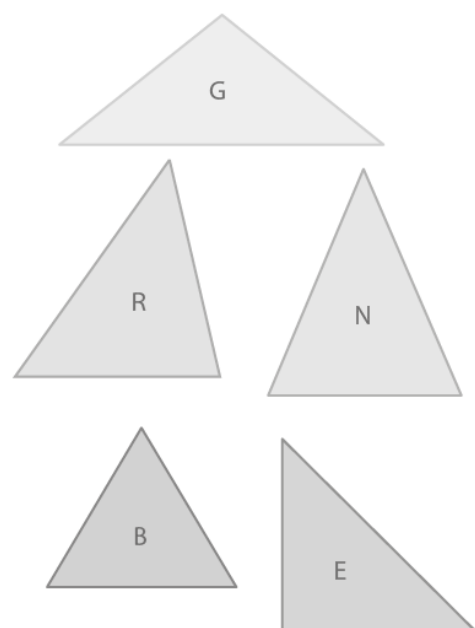
Haan is zijn vriendin Kippie kwijt.

- Schrijf de letter bij de juiste driehoek.
- Waar is Kippie? **BERGING** \_\_\_\_\_



Materiaal: geodriehoek

|   |  |
|---|--|
| B | een gelijkzijdige driehoek met scherpe hoeken    |
| E | een gelijkbenige driehoek met een rechte hoek    |
| R | een ongelijkbenige driehoek met een scherpe hoek |
| G | een gelijkbenige driehoek met een stompe hoek    |
| I | een ongelijkbenige driehoek met een rechte hoek  |
| N | een gelijkbenige driehoek met een scherpe hoek   |
| G | een gelijkbenige driehoek met een stompe hoek    |





# Ik weet waarvan jij bent gemaakt



## Dit kun je straks

Je kunt zeggen van welk materiaal voorwerpen uit de klas zijn gemaakt.

### 1 Waarvan ben ik gemaakt?

Noteer: hout – metaal – glas – (kunst)stof – steen.

|   |  |
|---|--|
|   |   |
| kunststof   | stof   |
|  |  |
| glas + metaal   | hout   |
|  |  |
| kunststof   | steen  |



## 2 Mijn klas onder de loep.

Kleur juist in.

