

Naam: _____

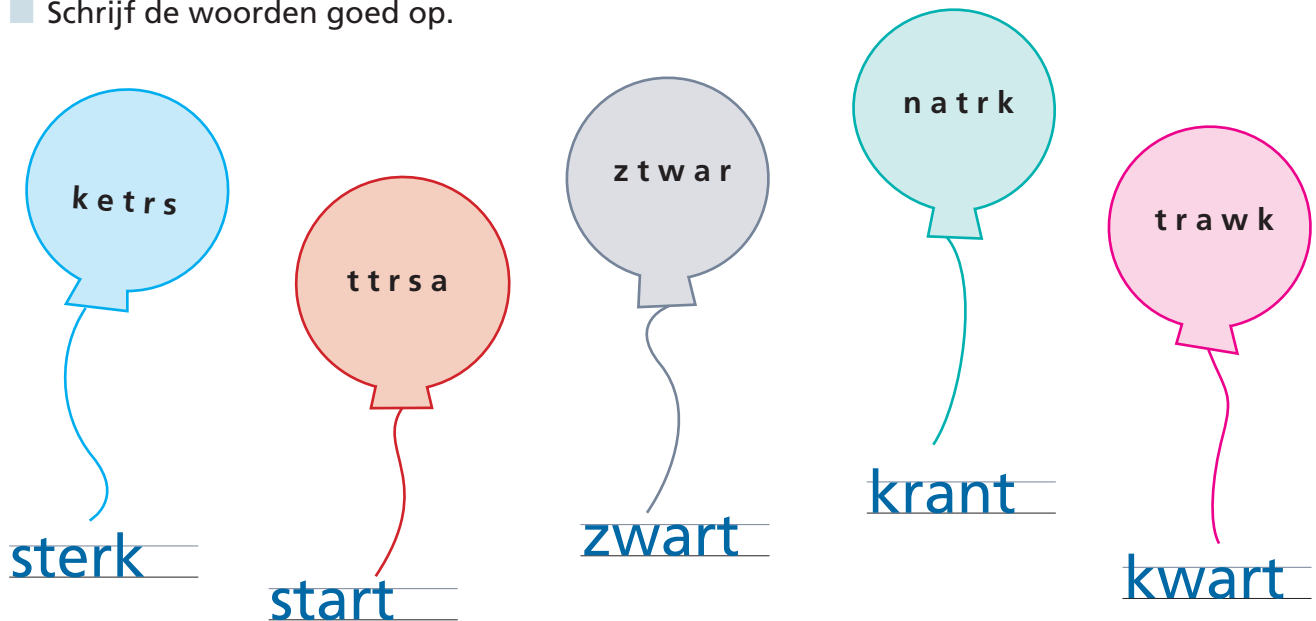
Datum: _____

Hier oefen ik op:

- woorden schrijven met meer medeklinkers vooraan en/of achteraan;
- woorden schrijven die eindigen op een hoorbare -t of -p;
- hoofdletters schrijven aan het begin van een zin en bij eigennamen.

1 Speur maar mee

- De letters staan door elkaar.
- Schrijf de woorden goed op.



A blue balloon with the letters 'k e t r s' is connected by a string to the word 'sterk' written on a line.
 An orange balloon with the letters 't t r s a' is connected by a string to the word 'start' written on a line.
 A grey balloon with the letters 'z t w a r' is connected by a string to the word 'zwart' written on a line.
 A light blue balloon with the letters 'n a t r k' is connected by a string to the word 'krant' written on a line.
 A pink balloon with the letters 't r a w k' is connected by a string to the word 'kwart' written on a line.

2 Het hoofd erbij houden

 17

- De woorden staan door elkaar.
- Schrijf de zin goed op.
- Begin met het woord in vetjes.
- Schrijf hoofdletters waar het hoort.

herfst – sam – reis – **in** – gaat – op – de .

In de herfst gaat Sam op reis. _____


sterk – is – dirk – erg – **oom** .

Oom Dirk is erg sterk. _____

Kom maar uit je schelp



Schrijf bij elke prent het goede woord.



schrift _____



schelp _____



stift _____



plant _____



zwaard _____



klomp _____



hand _____



kast _____



taart _____

Dit vindt de juf/de meester van mijn taak: _____





Naam: _____

Datum: _____

Klas: _____

Klasnummer: _____



1 Vul de som in.

$4 + 5 = 9$

$60 + 20 = 80$

$52 + 30 = 82$

$32 + 5 = 37$

$70 + 30 = 100$

$28 + 40 = 68$

$39 + 4 = 43$

$62 + 21 = 83$

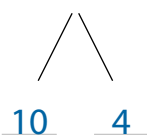
$40 + 57 = 97$

2 Vul de splitsingen aan.

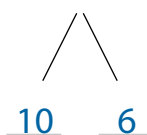
Maak de optellingen.

Kijk naar het voorbeeld.

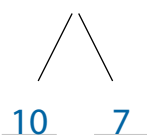
$28 + 14 = 28 + 10 + 4 = 38 + 4 = 42$



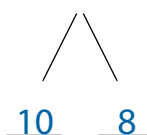
$18 + 16 = 18 + 10 + 6 = 28 + 6 = 34$




$19 + 17 = 19 + 10 + 7 = 29 + 7 = 36$




$25 + 18 = 25 + 10 + 8 = 35 + 8 = 43$



$17 + 18 = 17 + 10 + 8 = 27 + 8 = 35$



$24 + 17 = 24 + 10 + 7 = 34 + 7 = 41$



3 Werk uit.

Joppe heeft 19 speelgoedauto's.

Omar heeft er 12 minder.

Luca heeft 12 speelgoedauto's meer dan


Joppe.

Hoeveel speelgoedauto's heeft Luca?


Antwoordzin: Luca heeft 31 speelgoedauto's.

		?	=	31					
	19			12					
	19 + 12 = 29 + 2 = 31								

- 4** Meet de lijnstukken.
 Schrijf op hoe lang ze zijn.



$[AB] = 9 \text{ cm}$ _____



$[CD] = 5 \text{ cm}$ _____

- 5** Teken de lijnstukken helemaal.



- 6** Vul de splitsingen aan.
 Maak de aftrekkingen.
 Kijk naar het voorbeeld.

$41 - 12 = 41 - 10 - 2 = 31 - 2 = 29$ _____



$32 - 24 = 32 - 20 - 4 = 12 - 4 = 8$ _____



$43 - 24 = 43 - 20 - 4 = 23 - 4 = 19$ _____



$33 - 19 = 33 - 10 - 9 = 23 - 9 = 14$ _____



Ik vond de taak



Ik maakte de taak alleen.



Ik kreeg hulp.



Opmerking ouders: _____