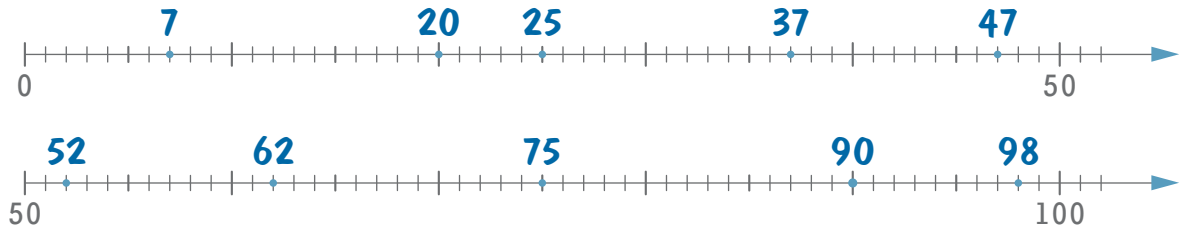


1 Vul de juiste getallen in op de stippen!



2 Schik de oefeningen in het juiste vak!

$T + T$ $T - T$	$TE + T$ $TE - T$	$E + E$ $E - E$ $TE + E$ $TE - E$ zonder sprong	$E + E$ $TE + E$ $TE - E$ met sprong
$20 + 60$ $60 - 20$ $50 + 40$ $90 - 80$ $30 + 40$ $90 - 60$ $90 - 30$	$75 - 20$ $27 + 50$ $86 - 40$ $37 - 20$ $52 - 40$	$9 - 4$ $24 + 5$ $2 + 27$ $7 - 0$ $52 + 8$	$27 + 5$ $48 + 9$ $13 - 8$ $72 - 9$ $87 - 8$ $51 - 9$ $25 + 6$

- |           |           |           |           |
|-----------|-----------|-----------|-----------|
| $27 + 5$  | $13 - 8$  | $50 + 40$ | $90 - 60$ |
| $48 + 9$  | $86 - 40$ | $90 - 80$ | $51 - 9$  |
| $75 - 20$ | $72 - 9$  | $2 + 27$  | $7 - 0$   |
| $20 + 60$ | $87 - 8$  | $37 - 20$ | $25 + 6$  |
| $9 - 4$   | $60 - 20$ | $30 + 40$ | $90 - 30$ |
| $27 + 50$ | $24 + 5$  | $52 - 40$ | $52 + 8$  |

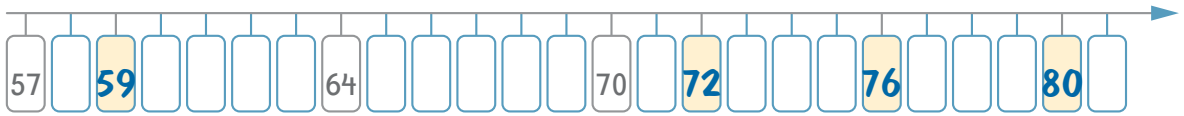
3 Schik de oefeningen in de juiste doos!

Kleur de hokjes voor de oefeningen in de juiste kleur!

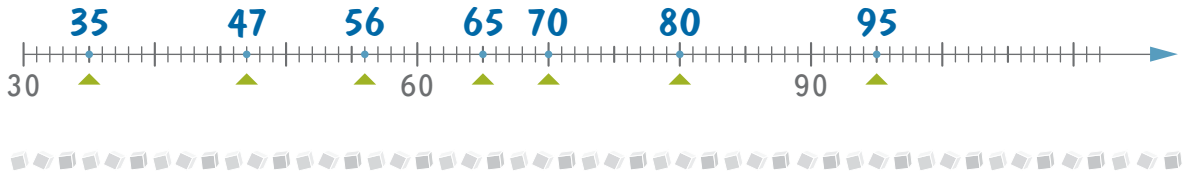
100	90	64	54	andere
<span style="color: yellow;">■</span> geel	<span style="color: green;">■</span> groen	<span style="color: blue;">■</span> blauw	<span style="color: red;">■</span> rood	<span style="color: brown;">■</span> bruin
<span style="color: green;">■</span> $86 + 4$	<span style="color: brown;">■</span> $60 - 4$	<span style="color: red;">■</span> $10 + 24 + 20$	<span style="color: yellow;">■</span> $100 - 10 + 10$	
<span style="color: brown;">■</span> $7 + 73$	<span style="color: brown;">■</span> $64 - 50$	<span style="color: blue;">■</span> $90 - 6 - 20$	<span style="color: blue;">■</span> $50 + 10 + 4$	
<span style="color: blue;">■</span> $32 + 32$	<span style="color: yellow;">■</span> $10 + 50 + 20 + 20$	<span style="color: blue;">■</span> $12 + 20 + 28 + 40$		
<span style="color: yellow;">■</span> $7 + 93$	<span style="color: brown;">■</span> $100 - 10 - 10$			
<span style="color: brown;">■</span> $4 + 51$	<span style="color: blue;">■</span> $20 + 14 + 30$			

1

Vul de getallen in op de hokjesgetallenlijn.



Vul de getallen in op de streepjesgetallenlijn.



2

Vul aan!

$$25 \xrightarrow{-6} 19$$

$$67 \xrightarrow{+4} 71$$

$$72 \xrightarrow{-3} 69$$

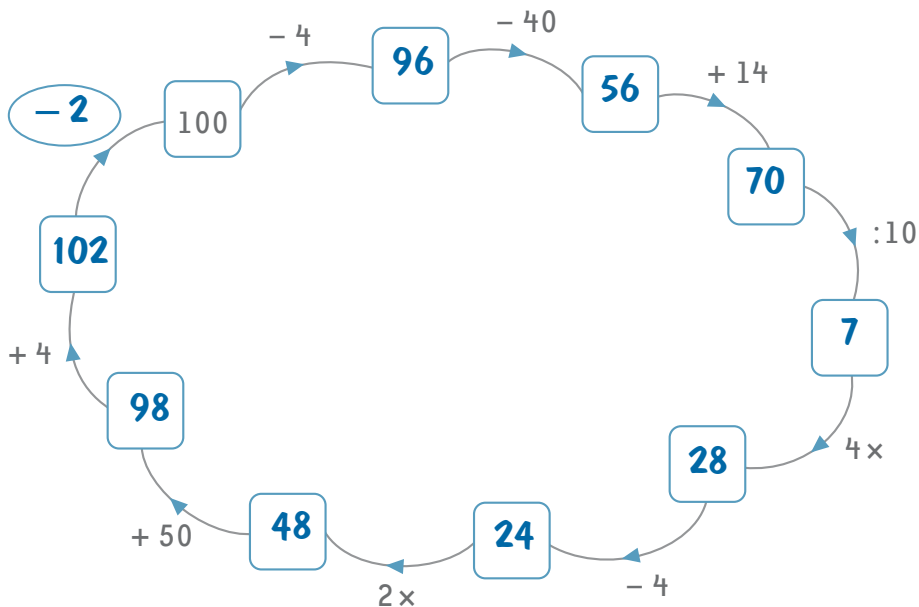
$$2 \xrightarrow{+98} 100$$

$$68 \xrightarrow{+5} 73$$

$$27 \xrightarrow{-8} 19$$

1

Jan, Loes, Bert en Miek maken de volgende rekenoefening. Ze vinden alle vier een andere oplossing.




Wie maakt deze kettingoefeningen juist?


- + 2  
Jan
- 2  
Loes
- + 8  
Bert
- 8  
Miek



# Mijn speelgoed uit hout, plastic of metaal

 Dit kun je al

Je kunt zeggen waarvan een huis, een fiets of een trui is gemaakt.

 Dit kun je straks

Je weet waarvan speelgoed is gemaakt.

1 Schrijf bij elk speelgoed waarvan het is gemaakt.

Kies uit: metaal – hout – pluche – plastic.



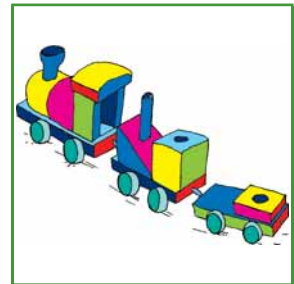
..... metaal .....



..... plastic .....



..... pluche .....



..... hout .....

2 Kleur juist.

Bruin: speelgoed uit hout  
Grijs: speelgoed uit metaal

Geel: speelgoed uit pluche  
Rood: speelgoed uit plastic

