



Naam: _____

Datum: _____

Klas: _____

Klasnummer: _____



1 Hoe laat is het?

Het is 4 uur _____.	Het is half 10 _____.	Het is half 3 _____.

2 Hoe laat is het?

Het is kwart voor 4 _____.	Het is kwart over 2 _____.	Het is kwart voor 7 _____.

Het is kwart over 4 _____.	Het is kwart voor 8 _____.	Het is kwart over 11 _____.

- 3** Schrijf het vorige tiental op.
 Schrijf het volgende tiental op.

vorig tiental	getal	volgend tiental
40	42	50
10	19	20

vorig tiental	getal	volgend tiental
60	69	70
70	73	80

- 4** Maak er een tiental van.
 Kijk goed naar het bewerkingsteken.

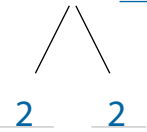
$$54 + 6 = 60 \quad 62 - 2 = 60 \quad 84 + 6 = 90$$

$$83 - 3 = 80 \quad 55 + 5 = 60 \quad 63 - 3 = 60$$

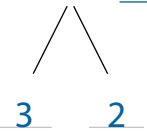
5 TE + E en TE - E

- Los op.

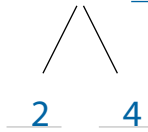
$$68 + 4 = 68 + 2 + 2 = 72$$



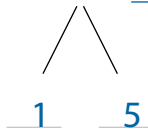
$$57 + 5 = 57 + 3 + 2 = 62$$



$$92 - 6 = 92 - 2 - 4 = 86$$



$$71 - 6 = 71 - 1 - 5 = 65$$



- 6** Vul de som of het verschil in.
 Gebruik tussenstappen.
 Onderstreep de getallen die samen een tiental maken.

$$59 + 8 = 59 + 1 + 7 = 67 \quad 62 - 9 = 62 - 2 - 7 = 53$$

$$38 + 9 = 38 + 2 + 7 = 47 \quad 54 - 8 = 54 - 4 - 4 = 46$$

$$85 + 6 = 85 + 5 + 1 = 91 \quad 93 - 7 = 93 - 3 - 4 = 86$$

Ik vond de taak



Ik maakte de taak alleen.



Ik kreeg hulp.



Opmerking ouders: _____