

Naam: \_\_\_\_\_

Datum: \_\_\_\_\_

### Hier oefen ik op:

- woorden schrijven met een doffe klank in be-, ge-, ver-, -el, -en en -er;
- woorden schrijven die eindigen op een klinker.

## 1

### Graag traag vandaag

14

- Een stuk van het woord is gegeven.
- Schrijf bij elk woord de woorden die je kunt maken door be, ge of ver toe te voegen.

zoek bezoek, verzoek

vaar gevaar

zond gezond, verzond

staan verstaan, bestaan, gestaan

draai verdraai, gedraai

## 2

### Naar de winkel


- Schrijf bij elke prent het goede woord op.



gieter



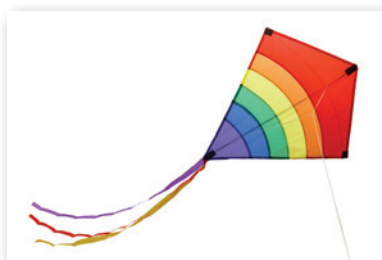
vlinder



sleutel



wortel



vlieger



dokter

3

### Zo, schrijf maar mee

■ Schrijf met elk woord een goede zin.

euro

eigen antwoord

sla

auto

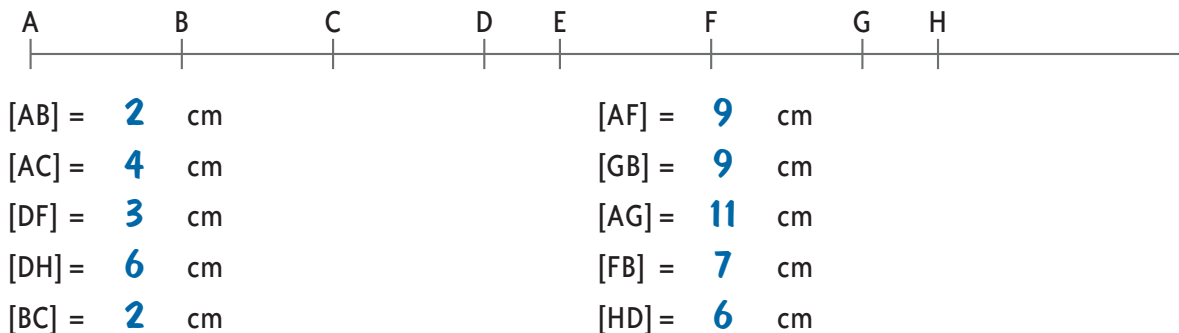
twee

Dit vindt de juf/de meester van mijn taak: \_\_\_\_\_

\_\_\_\_\_  
\_\_\_\_\_  
\_\_\_\_\_



**1** Meet met je meetlat!




**2** Hoe lang is het lijnstuk  $[AB]$ ?



- $[AB]$  is juist 7 cm lang.
- $[AB]$  is juist 8 cm lang.
- $[AB]$  is juist 9 cm lang.
- $[AB]$  is juist 10 cm lang.
- Het juiste antwoord is niet gegeven.

**3** Meet de afstand tussen de aankomst en de voorwielen!



auto nr.	juist	bijna	ruim
1	5 cm	cm	cm
2	cm	cm	5 cm
3	cm	6 cm	cm

4

Teken met je meetlat de volgende lijnstukken!  
Vergeet niet de begin- en eindpunten te schrijven!

[KL] = 2 cm 

[MN] = 3 cm 

[OP] = 1 cm 

[QR] = 5 cm 

[ST] = 7 cm 



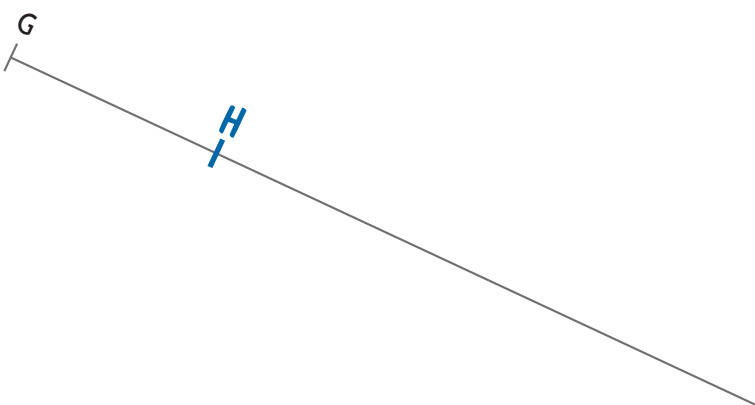
5

Teken met je meetlat!  
Een letter van het lijnstuk staat al gedrukt.

[AB] is een lijnstuk van 2 cm. 

[CD] is een lijnstuk van 5 cm. 

[EF] is een lijnstuk van 1 cm. 

[GH] is een lijnstuk van 3 cm. 

[JK] is een lijnstuk van 4 cm. 

Let op!

Volgende les is remediëringsles 8

Hierna volgt een herhalingsthema. Hierbij hoort toets 9.