

T6 Rem 25: woorden met sch, schr, str of spr

Woorden met ...

sch		schr		str		spr	
schaap	schat	schram	schreeuw	straat	straf	spreek	spring
schip	schoen	schrik	schrijven	streep	streng	sprong	sproet
school	schop	schrift	schroef	strand	strip	spruit	
schuur	schuin						

1 Streep maar door

- Lees de woorden.
- Kijk goed naar het kopje van het woord.
- Schrijf de woorden in het goede vak.

streep – schrift – school – schram – spruiten – sproet – scheef –
stroom – sprookje – schrijven – schaats – stroef

sch-	schr-
school _____	schrift _____
scheef _____	schram _____
schaats _____	schrijven _____
_____	_____
_____	_____

str-	spr-
streep _____	spruiten _____
stroom _____	sproet _____
stroef _____	sprookje _____
_____	_____
_____	_____

2 Veel kopjes

- Schrijf met elk stukje zoveel mogelijk woorden.
- Gebruik deze kopjes: sch, schr, spr, str.
- Kijk naar het voorbeeld.

Voorbeeld:

-ok schok, schrok

-aal schaal, schraal, straal

-eef scheef, schreef, streef

-oef schroef, stroef

-ak sprak, strak

3 Zonder schrammen

- Benoem de prenten.
- Schrijf bij elke prent het goede woord.



schrift



schelp



schaap



schroef



strik



spruiten

- Een foutje mag. Schrijf het hier eenmaal goed.
Vertel me hoe je het doet!

Hoe deed ik de taak?



Ik denk



Juf/Meester vindt

1

Los op.

$36 + 3 = 39$

$47 + 2 = 49$

$47 + 7 = 54$

$47 + 8 = 55$

$65 + 8 = 73$

$24 + 7 = 31$

$33 + 9 = 42$

$36 + 8 = 44$

$33 + 4 = 37$

$46 + 8 = 54$

$47 + 5 = 52$

$26 + 6 = 32$

$52 - 4 = 48$

$63 - 5 = 58$

$48 - 6 = 42$

$36 - 8 = 28$

$25 - 4 = 21$

$44 - 4 = 40$

$42 - 6 = 36$

$54 - 8 = 46$



2

Los op.

In de toonzaal staan 9 nieuwe auto's.

Buiten staan er nog 28 nieuwe auto's.

Uit hoeveel nieuwe auto's kun je kiezen?

Formule: $28 + 9 = 37$ ($28 + 2 + 7 = 30 + 7 = 37$)Antwoord: **Je kunt uit 37 auto's kiezen.**

3

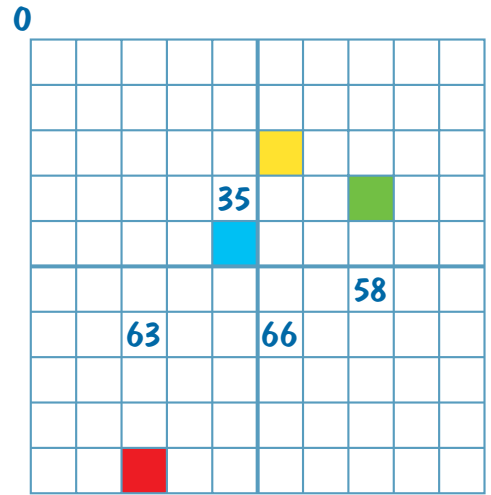
Vul in en kleur daarna het juiste hokje!

Vul 63 in! Kleur daarna het hokje van het getal dat 3 T meer is rood.

Vul 58 in! Kleur daarna het hokje van het getal dat 2 T minder is groen.

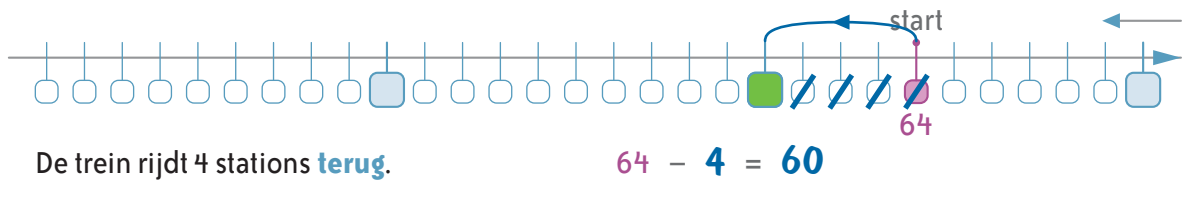
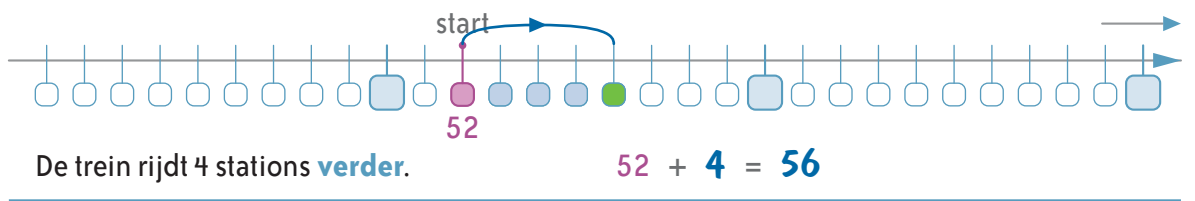
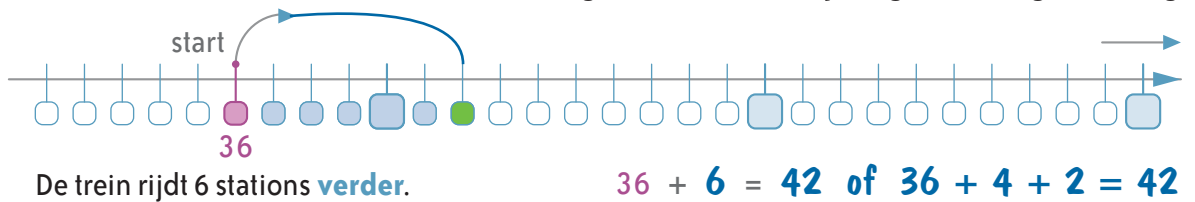
Vul 35 in! Kleur daarna het hokje van het getal dat 1 T meer is blauw.

Vul 66 in! Kleur daarna het hokje van het getal dat 4 T minder is geel.



1

Kleur het station waar de trein aankomt groen. Teken de sprong met een grote boog.



2

De trein rijdt terug op de getallenlijn. Vul in. Kleur het station waar de trein aankomt groen. Teken de pijl.

