

T6 Rem 23: woorden met een doffe klinker

Woorden met een doffe klinker

woorden op -er

moeder dokter
vlinder bolster
ander donker

woorden op -el

winkel hoepel
venkel stempel
sleutel vleugel

woorden op -e

drukte stilte
hoogte laagte
lange korte

Let op!

Bij woorden met -en aan het eind spreek je de n na de doffe e niet uit.
voorbeelden: jongen, bijten, varken

1 Sorteren maar

- Kijk naar het einde van elk woord.
- Schrijf de woorden in het goede vak.

jongen – suiker – varken – kelder – winkel – vleugel – meester – buiten – wandel

woorden op -el	woorden op -er	woorden op -en
winkel	suiker	jongen
vleugel	kelder	varken
wandel	meester	buiten
_____	_____	_____
_____	_____	_____

2 Puzzelen maar

- Kleur twee stukjes die een goed woord vormen in dezelfde kleur.
- Schrijf de woorden op.



ander spiegel stempel
vroeger winter zorgen

3

Schrijven maar

Schrijf bij elke prent het goede woord.



sleutel _____



wortel _____



vlieger _____



dokter _____



jongen _____



tijger _____

Kies twee woorden uit.

Schrijf met elk van de woorden een goede zin.

1 eigen antwoord _____

2 _____

Een foutje mag. Schrijf het hier eenmaal goed.

Vertel me hoe je het doet!

Hoe deed ik de taak?



Ik denk



Juf/Meester vindt



Naam: _____

Datum: _____

Klas: _____

Klasnummer: _____



1 Vul aan tot het volgende tiental.

$2 + 8 = 10$

$14 + 6 = 20$

$33 + 7 = 40$

$9 + 1 = 10$

$35 + 5 = 40$

$17 + 3 = 20$

$3 + 7 = 10$

$48 + 2 = 50$

$39 + 1 = 40$

2 Vul het verschil in.

$12 - 2 = 10$

$26 - 6 = 20$

$18 - 3 = 15$

$50 - 6 = 44$

$34 - 4 = 30$

$40 - 1 = 39$

$36 - 4 = 32$

$40 - 20 = 20$

$20 - 1 = 19$

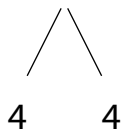
$20 - 9 = 11$

$40 - 8 = 32$

$40 - 6 = 34$

3 Vul in.

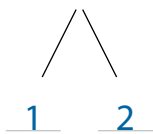
$16 + 8 = 16 + 4 + 4 = 20 + 4 = 24$



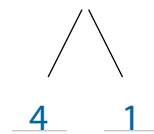
$18 + 9 = 18 + 2 + 7 = 20 + 7 = 27$



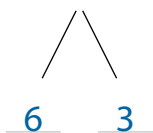
$29 + 3 = 29 + 1 + 2 = 30 + 2 = 32$



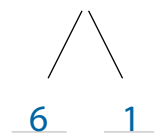
$36 + 5 = 36 + 4 + 1 = 40 + 1 = 41$



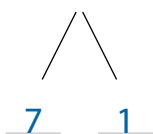
$14 + 9 = 14 + 6 + 3 = 20 + 3 = 23$



$24 + 7 = 24 + 6 + 1 = 30 + 1 = 31$



$13 + 8 = 13 + 7 + 1 = 20 + 1 = 21$



$35 + 9 = 35 + 5 + 4 = 40 + 4 = 44$



4 □ Werk uit.

In de wei van boer Lode lopen ~~12 koeien~~.

Er staan 18 appelbomen.

Daartussen staan nog 6 perenbomen.

Hoeveel fruitbomen staan er in deze wei?

Antwoordzin: Er staan 24 fruitbomen.

		$? = 24$																	
		18		6															
		$18 + 6 = 24$																	

5 □ Zoek het verschil.

$22 - 4 = \underline{22 - 2} - 2 = \underline{20} - 2 = \mathbf{18}$



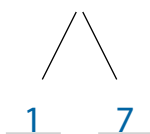
$43 - 5 = \underline{43 - 3} - 2 = \underline{40} - 2 = \mathbf{38}$



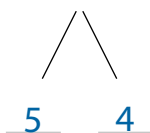
$24 - 9 = \underline{24 - 4} - 5 = \underline{20} - 5 = \mathbf{15}$



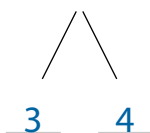
$31 - 8 = \underline{31 - 1} - 7 = \underline{30} - 7 = \mathbf{23}$



$25 - 9 = \underline{25 - 5} - 4 = \underline{20} - 4 = \mathbf{16}$



$43 - 7 = \underline{43 - 3} - 4 = \underline{40} - 4 = \mathbf{36}$



6 □ Werk uit.

~~Meester Lucas is 38 jaar.~~

Juf Layla is 29 jaar.

~~Meester Lucas weegt 90 kg.~~

~~Hij is bijna 2 meter groot.~~

Hoe oud zal Juf Layla zijn over 7 jaar?

Antwoordzin: Over 7 jaar zal juf Layla 36 jaar zijn.

		$? = 36$																	
		29		7															
		$29 + 7 = 36$																	

Ik vond de taak		<input type="checkbox"/> Ik maakte de taak alleen. <input type="checkbox"/> Ik kreeg hulp.
Opmerking ouders: _____		



Veilig of onveilig?

Kleur Groen = veilig

Kleur Rood = onveilig

