

Naam: _____

Datum: _____

Hier oefen ik op:

- het schrijven van woorden met meer medeklinkers achteraan.

1

Van haas maak ik haast

- Maak nieuwe woorden.
- Voeg een passende medeklinker toe.
- Schrijf het nieuwe woord op.

haas t haast _____

mees t meest _____

lam p lamp _____

hek s heks _____

kom t komt _____

kan s/t kans/kant _____

dan s dans _____

dam p damp _____

2

Een worm in het gras

- Schrijf de woorden in het goede vak.
- Op de plaats van het ? schrijf je rm, rk, lf of lk.

wa? – do? – za? – be? – a? – ze? – me? – wo?

-rm	-rk
warm _____	berk _____
berm _____	zerk _____
arm _____	merk _____
-lk	-lf
dolk _____	zalf _____
melk _____	zelf _____
wolk _____	wolf _____

3

Jou hoor ik het laatst

Schrijf bij elke prent het goede woord.



muts _____



wesp _____



worm _____



wolf _____




worst _____



korst _____



hark _____



helft _____



helm _____

Dit vindt de juf/de meester van mijn taak: _____





Naam: _____

Datum: _____

Klas: _____

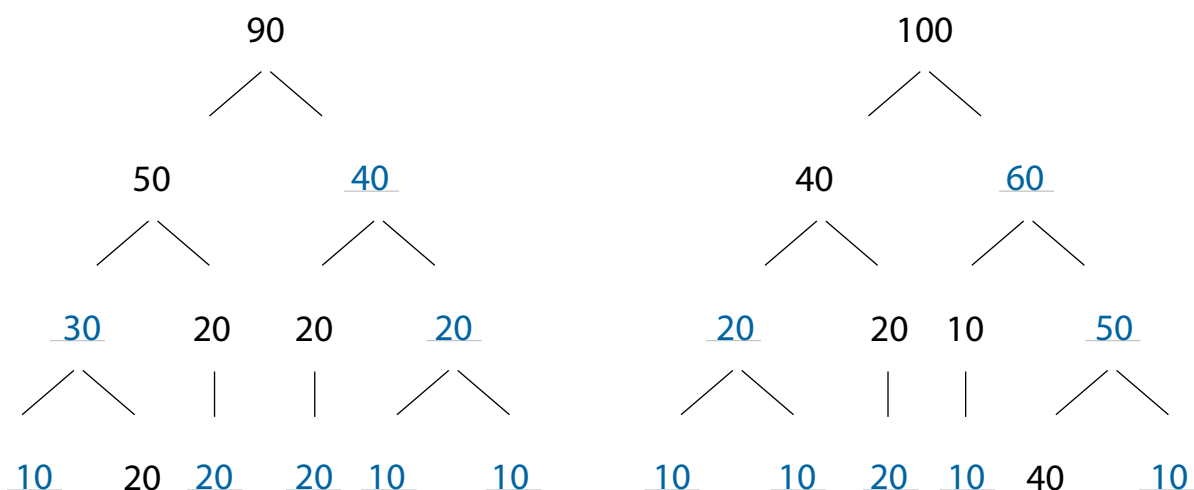
Klasnummer: _____

1 Vul in de tabel het vorige en het volgende tiental in.

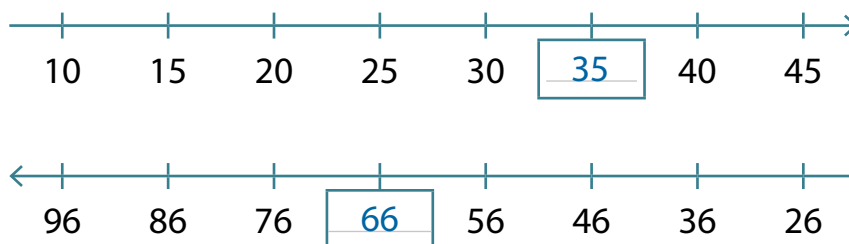
vorige T	getal	volgende T
<u>30</u>	36	<u>40</u>
<u>40</u>	42	<u>50</u>
<u>90</u>	98	<u>100</u>

vorige T	getal	volgende T
<u>10</u>	17	<u>20</u>
<u>50</u>	59	<u>60</u>
<u>60</u>	64	<u>70</u>

2 Vul de splitsbomen in met tientallen.



3 Vul de verdwenen getallen in op de assen of in de rijen.



2	4	6	8	<u>10</u>	12	14	<u>16</u>	18	20	<u>22</u>	24
95	90	85	80	75	<u>70</u>	65	60	<u>55</u>	50	<u>45</u>	<u>40</u>

4 Dit speelgoed kun je kopen.




- Schat hoeveel je betaalt.
- Betaal met zo weinig mogelijk bankbiljetten.
- Zet een kruis op de briefjes waarmee je betaalt.

vliegtuig	kraan	pop	robot
			
39 euro	27 euro	17 euro	8 euro

Ik koop.	Ik schat hoeveel het kost.	Ik geef.
een pop en een robot	$20 + 10 = 30$ 30 _____ euro	
een kraan en een vliegtuig	$30 + 40 = 70$ 70 _____ euro	
een vliegtuig, een kraan en een pop	$40 + 30 + 20 = 90$ 90 _____ euro	

5 Werk uit.

$24 + 30 = 54$ _____	$85 - 20 = 65$ _____	$3 \times 5 = 15$ _____	$90 : 10 = 9$ _____
$83 + 12 = 95$ _____	$80 - 60 = 20$ _____	$4 \times 10 = 40$ _____	$12 : 2 = 6$ _____
$42 + 16 = 58$ _____	$65 - 32 = 33$ _____	$6 \times 2 = 12$ _____	$35 : 5 = 7$ _____

Ik vond de taak _____		<input type="checkbox"/> Ik maakte de taak alleen.  <input type="checkbox"/> Ik kreeg hulp. 
Opmerking ouders: _____		