











Naam: _____

DAGTAAK 33

hallo,

dit is de laatste taak. je mag weer naar school. veel plezier!

VAK	TAAK	Klaar?
	Opdracht voor lezen	
	<u>Rekenen</u> : Optellen en betalen	
	<u>WO</u> : Zon waar ben je?	
	Tekening voor juf of meester	

Opdrachten lezen

- Kies een prentenboek naar keuze. Lees het zelf of laat je voorlezen.
- Maak dan de opdracht hieronder.

Heb je in je boek een fantasiewezen ontmoet dat je aan iedereen wilt voorstellen? Laat hier gerust je tekenkunsten los.





los op.

$$8 + 2 + 6 = \underline{\quad} + 6 = 16$$

$$4 + 6 + 2 = \underline{\quad} + 2 = \underline{\quad}$$

$$5 + 5 + 5 = \underline{\quad} + 5 = \underline{\quad}$$

$$7 + 3 + 4 = \underline{\quad} + 4 = \underline{\quad}$$

$$0 + 10 + 8 = \underline{\quad} + 8 = \underline{\quad}$$

$$9 + 1 + 5 = \underline{\quad} + \underline{\quad} = \underline{\quad}$$

$$3 + 7 + 7 = \underline{\quad} + \underline{\quad} = \underline{\quad}$$

$$2 + 8 + 9 = \underline{\quad} + \underline{\quad} = \underline{\quad}$$

$$6 + 4 + 1 = \underline{\quad} + \underline{\quad} = \underline{\quad}$$

$$1 + 9 + 3 = \underline{\quad} + \underline{\quad} = \underline{\quad}$$



kijk goed.



vul in.

kim heeft _____ euro.



wat kan kim kopen?



€2



€4



€7



€12

mama is jarig. kim wil taart. kim wil ook aardbeien.

ze betaalt _____ euro.

ze heeft _____ euro over.



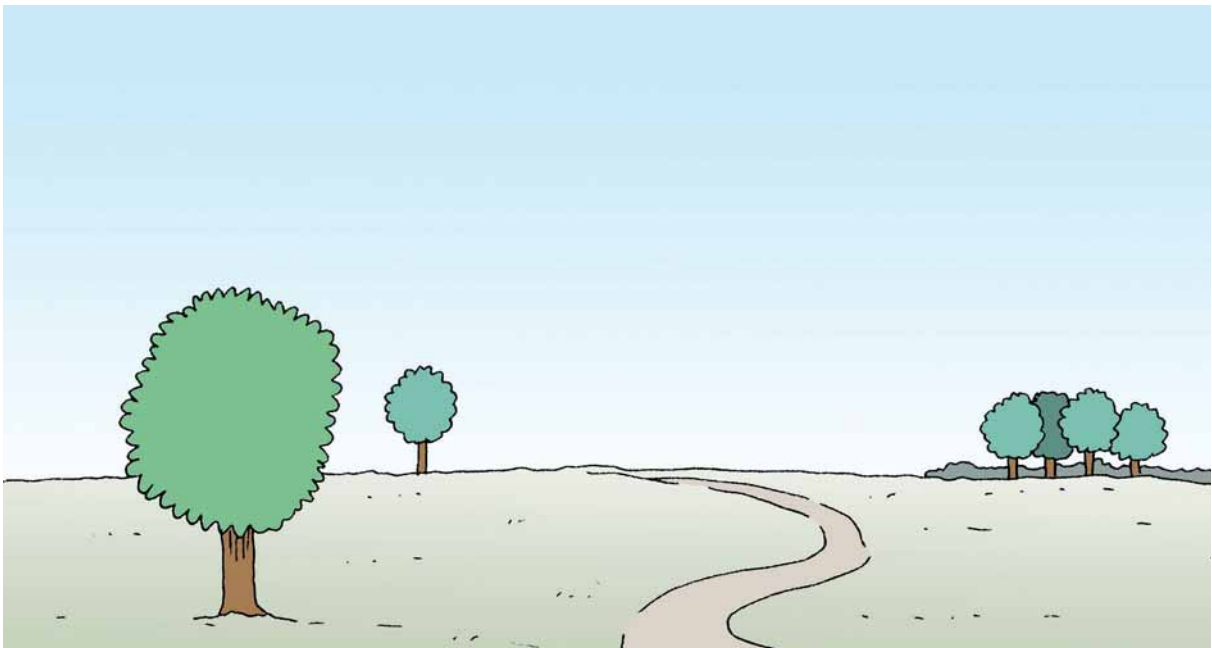
Zon, waar ben je?



Dit kun je straks

Je kunt de plaats van de zon aanwijzen op verschillende momenten van de dag.

1 Teken de zon overdag.




2 Teken de zon 's avonds.



Bedankt !

Juf/meester: _____

Jij bent een KANJER voor mij!



IK BEN BLIJ OM WEER
BIJ JOU TE ZIJN!