



naam: \_\_\_\_\_

datum: \_\_\_\_\_


klas: \_\_\_\_\_

klasnummer: \_\_\_\_\_


1 hoeveel is dit?



7 euro



10 euro



15 euro






16 euro

2 betaal.

meerdere oplossingen mogelijk

omkring de briefjes en munten.

--	--


3  tel op.


 +  = 7 \_\_\_\_\_ euro

 +  = 20 \_\_\_\_\_ euro

 +  = 15 \_\_\_\_\_ euro

 +  +  = 8 \_\_\_\_\_ euro

4  onderstreep telkens de 2 getallen die samen 10 zijn.

 los op. noteer in het lang.

$4 + 6 + 5 = \underline{10} + 5 = 15$  \_\_\_\_\_  $\underline{2} + 7 + 8 = \underline{10} + 7 = 17$  \_\_\_\_\_

$3 + 7 + 2 = \underline{10} + 2 = 12$  \_\_\_\_\_  $\underline{1} + 4 + 9 = \underline{10} + 4 = 14$  \_\_\_\_\_

$8 + 4 + 2 = \underline{10} + 4 = 14$  \_\_\_\_\_  $\underline{3} + 7 + 9 = \underline{10} + 9 = 19$  \_\_\_\_\_

ik vond de taak



ik maakte de taak alleen.



ik kreeg hulp.



opmerking ouders: \_\_\_\_\_